


あつまりと かず チャレンジ

2

がつ にち

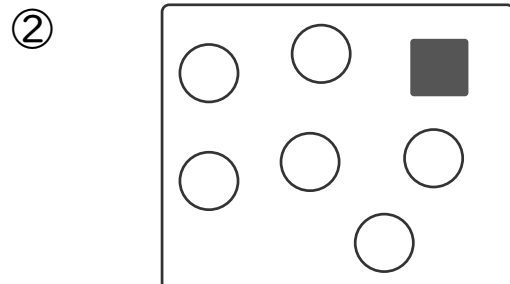
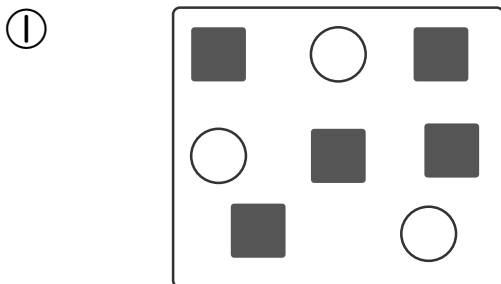
なまえ

1 どうぶつのかずをすうじて かきなさい。



- ① いぬ () ② ねこ ()
 ③ うさぎ () ④ りす ()
 ⑤ ことり ()

2 ○と■が それぞれ 7つずつに なつようにするには、
 ○と■が あと いくつ あれば よいですか。




○が () つ

○が () つ

■が () つ

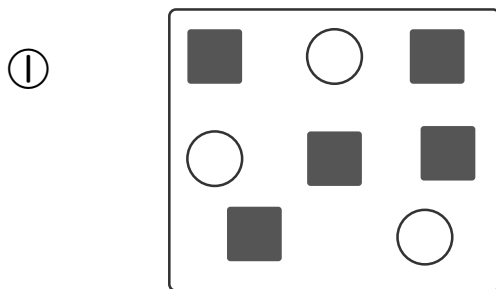
■が () つ

1 どうぶつの の かずを すうじて かきなさい。



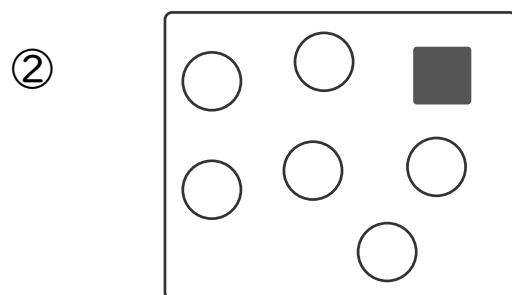
- ① いぬ (5) ② ねこ (4)
 ③ うさぎ (3) ④ りす (2)
 ⑤ ことり (8)

2 ○と■が それぞれ7つずつになるようにするには、
 ○と■が あと いくつ あれば よいですか。



○が (4) つ

■が (2) つ



○が (1) つ

■が (6) つ