

# 2年生の 算数 まとめ

2

がつ

にち

なまえ

1 次の計算をしましょう。

①  $6 \times 8$

②  $2 \times 7$

③  $7 \times 7$

④ 
$$\begin{array}{r} 20 \\ + 81 \\ \hline \end{array}$$

⑤ 
$$\begin{array}{r} 81 \\ - 33 \\ \hline \end{array}$$

⑥ 
$$\begin{array}{r} 203 \\ - 44 \\ \hline \end{array}$$

2 ひろしさんは おはじきを 68 こ、 あけみさんは 72 こもっています。 どちらが 何こ 多いでしょう。

しき

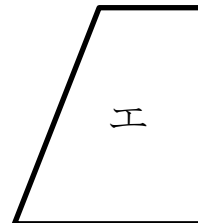
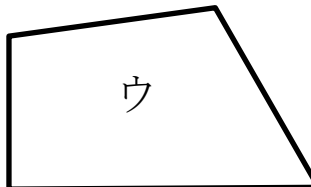
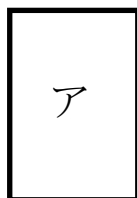
こたえ

3 □の中にあてはまる数を書きましょう。

①  $5 \text{ cm } 2 \text{ mm} = \square \text{ mm}$

②  $46 \text{ mm} = \square \text{ cm } \square \text{ mm}$

4 下の図で 長方形はどれですか。



答え

1 次の計算をしましょう。

①  $6 \times 8 = 48$

②  $2 \times 7 = 14$

③  $7 \times 7 = 49$

④ 
$$\begin{array}{r} 20 \\ + 81 \\ \hline 101 \end{array}$$

⑤ 
$$\begin{array}{r} 81 \\ - 33 \\ \hline 48 \end{array}$$

⑥ 
$$\begin{array}{r} 203 \\ - 44 \\ \hline 159 \end{array}$$

2 ひろしさんは おはじきを 68 こ、 あけみさんは 73 こ  
もっています。 どちらが 何こ 多いでしょう。

しき  $73 - 68 = 5$

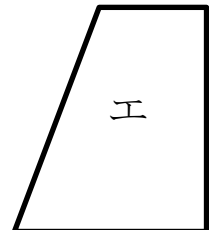
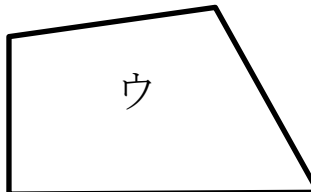
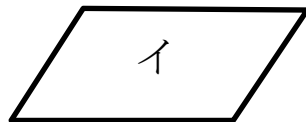
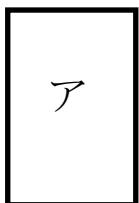
こたえ あけみさんが 5 こ多い

3 □の中にあてはまる数を書きましょう。

①  $5 \text{ cm } 2 \text{ mm} = 52 \text{ mm}$

②  $46 \text{ mm} = 4 \text{ cm } 6 \text{ mm}$

4 下の図で 長方形はどれですか。



ア