

1年生の さんすう まとめ

8

がつ

にち

なまえ

1 けいさんをしましょう。

① $13 - 4 + 6 =$

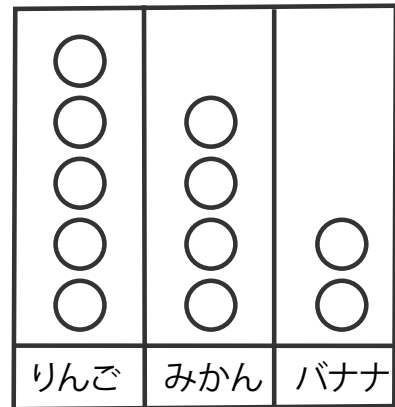
② $15 - 8 - 3 =$

2 子どもがならんでいます。たろうさんのまえに6にん、うしろに5にんいます。子どもはぜんぶで何にんいますか。

しき

こたえ

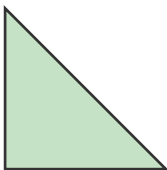
3 はこのなかのくだもののかずをしらべました。みぎのグラフをみてこたえましょう。
りんごはバナナより何こ多いですか。



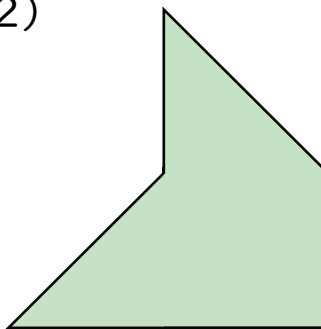
こたえ

4 図1のようなさんかくのいろいたをつかってかたちをつくれます。図2のかたちをつくるには、いろいたはなんまいいりますか。

(図1)



(図2)



こたえ

こたえ

1 けいさんをしましょう。

① $13 - 4 + 6 = 15$

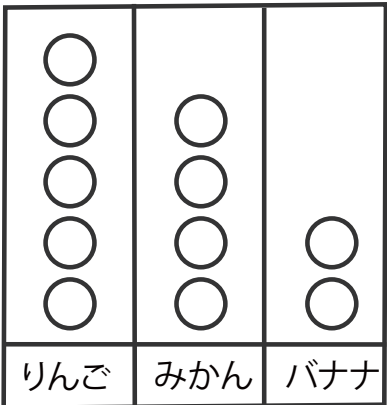
② $15 - 8 - 3 = 4$

2 子どもがならんでいます。たろうさんのまえに6にん、うしろに5にんいます。子どもはぜんぶで何にんいますか。

しき $6 + 1 + 5 = 12$

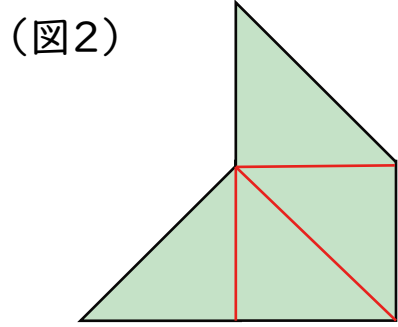
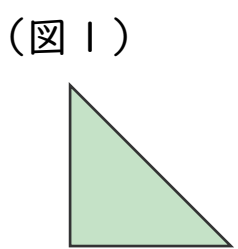
こたえ 12にん

3 はこのなかのくだもののかずをしらべました。みぎのグラフをみてこたえましょう。
りんごはバナナより何こ多いですか。



こたえ 3こ

4 図1のようなさんかくのいろいたをつかってかたちをつくります。図2のかたちをつくるには、いろいたはなんまいいりますか。



こたえ 4まい