

1年生の さんすう まとめ

がつ

にち

なまえ

1 つぎの かずを かきましょう。

① 10が9こと1が3こで です。

② 100より4ちいさいかずは です。

2 100えん玉を1まいもってかいものに行きました。
60えんのノートをかうと、おつりはいくらですか。


しき ことえ

3 こうえんに こどもが12にんいます。5にんかえりました。
そのあと、3にんきました。こどもはぜんぶでなんにんになりましたか。

しき ことえ

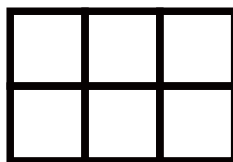
4 ア、イ、ウのなかで、いちばんひろいのはどれですか。
いちばんひろいものに○をつけましょう。

ア



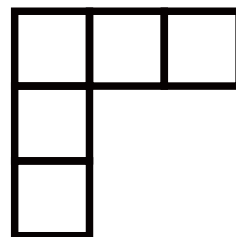
()

イ



()

ウ



()

こたえ

1 つぎの かずを かきましょう。

① 10が9こと1が3こで です。

② 100より4ちいさいかずは です。

2 100えん玉を1まいもってかいものにいきました。

60えんのノートをかうと、おつりはいくらですか。

しき こたえ


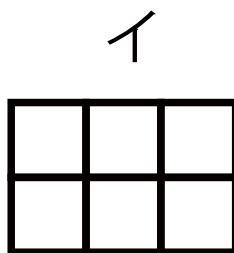
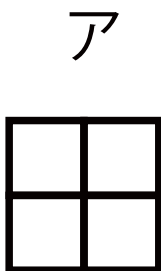
3 こうえんにこどもが12にんいます。5にんかえりました。

そのあと、3にんきました。こどもはぜんぶでなんにんになりましたか。

しき こたえ

4 ア、イ、ウのなかで、いちばんひろいのはどれですか。

いちばんひろいものに○をつけましょう。



()

(○)

()