

1年生の さんすう まとめ


5

がつ

にち

なまえ

1 かずを おおきい じゅんに に かきましょう。
 49 52 38 61 25



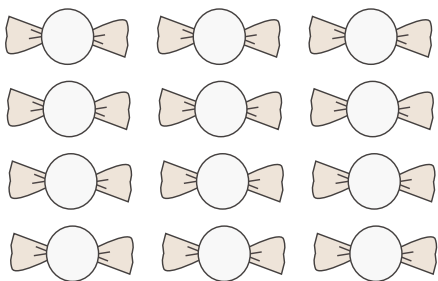
2 あめが 46 こあります。 4 こたべました。
 あめは なんこに なりましたか。

しき こたえ

3 えんぴつを 12ほん もっています。 いもうとに 5ほん
 あげました。 そのあと おとうとに 2ほん あげました。
 えんぴつは なんほんに なりましたか。

しき こたえ

4 あめが 12 こ あります。 ひとりに 3 こずつ
 くばったら なんにんに くばれますか。



しきに かいて たしかめると

$$\square + \square + \square + \square = \square$$

こたえ

こたえ

1 かずを おおきい じゆんに に かきましょう。

49 52 38 61 25



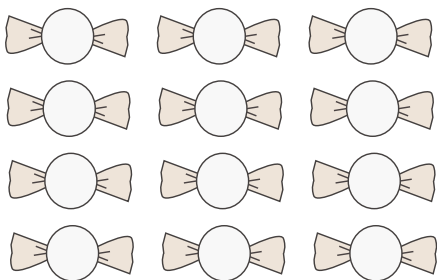
2 あめが 46 こあります。 4 こたべました。
あめは なんこに なりましたか。

しき こたえ

3 えんぴつを 12 ほん もっています。 いもうとに 5 ほん
あげました。 そのあと おとうとに 2 ほん あげました。
えんぴつは なんほんに なりましたか。

しき こたえ

4 あめが 12 こ あります。 ひとりに 3 こずつ
くばったら なんにんに くばれますか。



しきに かいて たしかめると

$$\boxed{3} + \boxed{3} + \boxed{3} + \boxed{3} = \boxed{12}$$

こたえ