

時こくと時間 (何分前)

NO. 1

月 日


名前

点

1

次の時こくの30分前の時こくをもとめましょう。

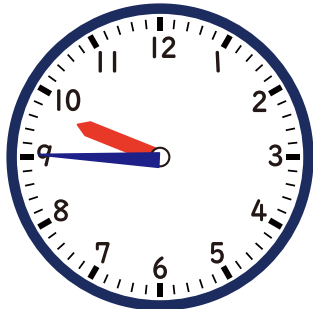
①



②



③



④



2

時計を見て、次の時こくをもとめましょう。

①

10 分前

②

25 分前

③

40 分前




答え

1

次の時こくの30分前の時こくをもとめましょう。

①



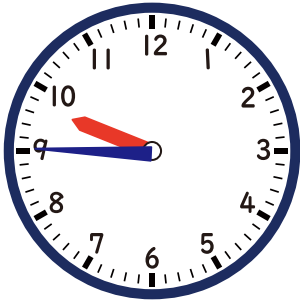
5時 30分

②



1時

③



9時 15分

④



3時 50分

2

時計を見て、次の時こくをもとめましょう。

①

10 分前

12時 30分

②

25 分前

12時 15分

③

40 分前

12時

