

# 時こくと時間 (何分後)

NO. 2

月 日

名前


点

1 次の時こくの30分後の時こくをもとめましょう。

①



②



③



④



2 時計を見て、次の時こくをもとめましょう。

① 20 分後


② 30 分後

③ 45 分後

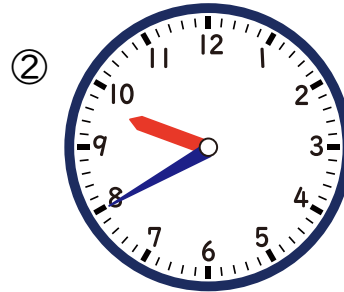


答え

1 次の時こくの30分後の時こくをもとめましょう。



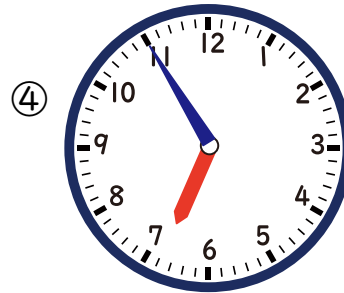
4時



10時 10分



5時 20分



8時 25分

2 時計を見て、次の時こくをもとめましょう。

① 20 分後

11時 55分

② 30 分後

12時 5分

③ 45 分後

12時 20分

