

# 時こくと時間 (何時間前)

NO. 3

月 日

名前

点

1 次の時こくの2時間前の時こくをもとめましょう。

①



②



③



④



2 次の時こくを もとめましょう。

① 12時から 3時間前の時こく。

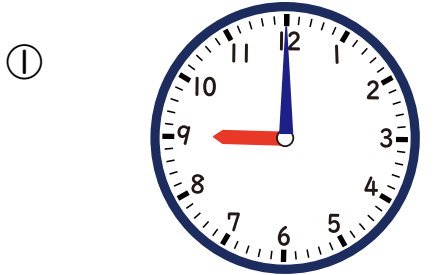
② 1時30分から 2時間前の時こく。

③ 5時35分から 3時間前の時こく。

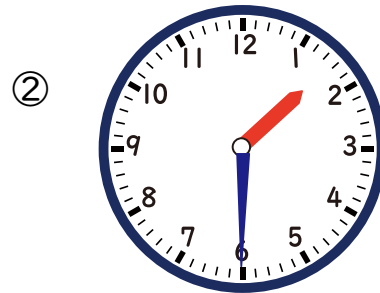
④ 11時21分から 5時間前の時こく。

答え

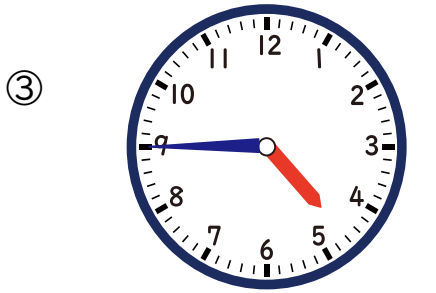
1 次の時こくの2時間前の時こくをもとめましょう。



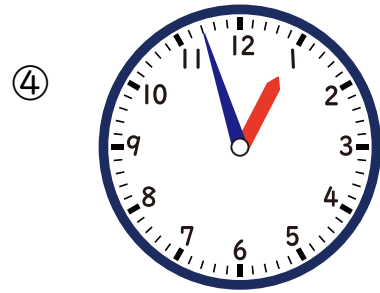
7 時



11時 30分



2時 45分



10時 57分

2 次の時こくを もとめましょう。

① 12 時から 3 時間前の時こく。

9 時

② 1 時 30 分から 2 時間前の時こく。

11時 30分

③ 5 時 35 分から 3 時間前の時こく。

2時 35分

④ 11 時 21 分から 5 時間前の時こく。

6時 21分