

三角形を書く 1

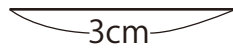
月 日

名前

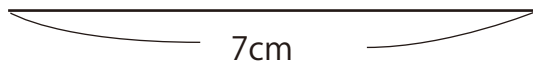
点

■ コンパスを使って、次の三角形を書きましょう。

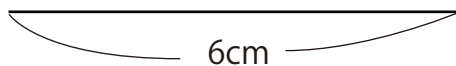
① 辺の長さが 3 cm, 4 cm, 4 cm の二等辺三角形



② 辺の長さが 7 cm, 5 cm, 5 cm の二等辺三角形




③ 1 辺の長さが 6 cm の正三角形

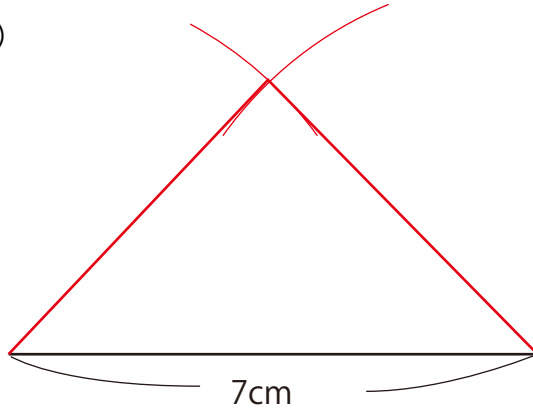


答え

①



②



③

