

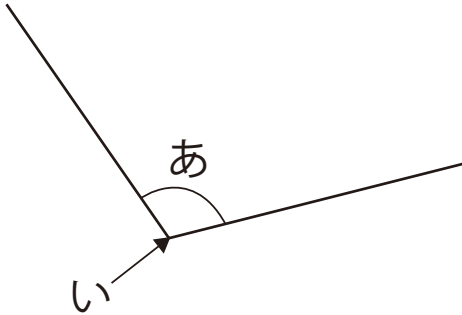
三角形と角1

月 日

名前

点

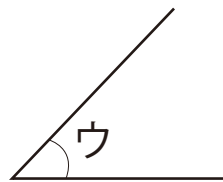
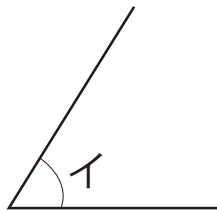
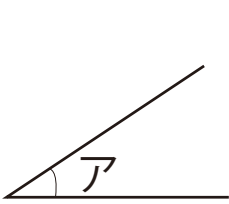
1 下の図を見て、答えましょう。



① 2つの辺がつくる形を何とといいますか。

② 「い」の点を何とといいますか。

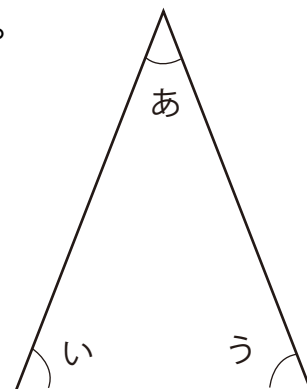
2 下の角を大きいじゅんにならべましょう。



3 □にあてはまることばを書きましょう。

① 右の二等辺三角形では □ と □ の角の大きさが同じになります。

② 正三角形ではすべての角の大きさが □ になります。



答え

① 角 ② ちょう点

イ、ウ、ア

① い、う ② 同じ