

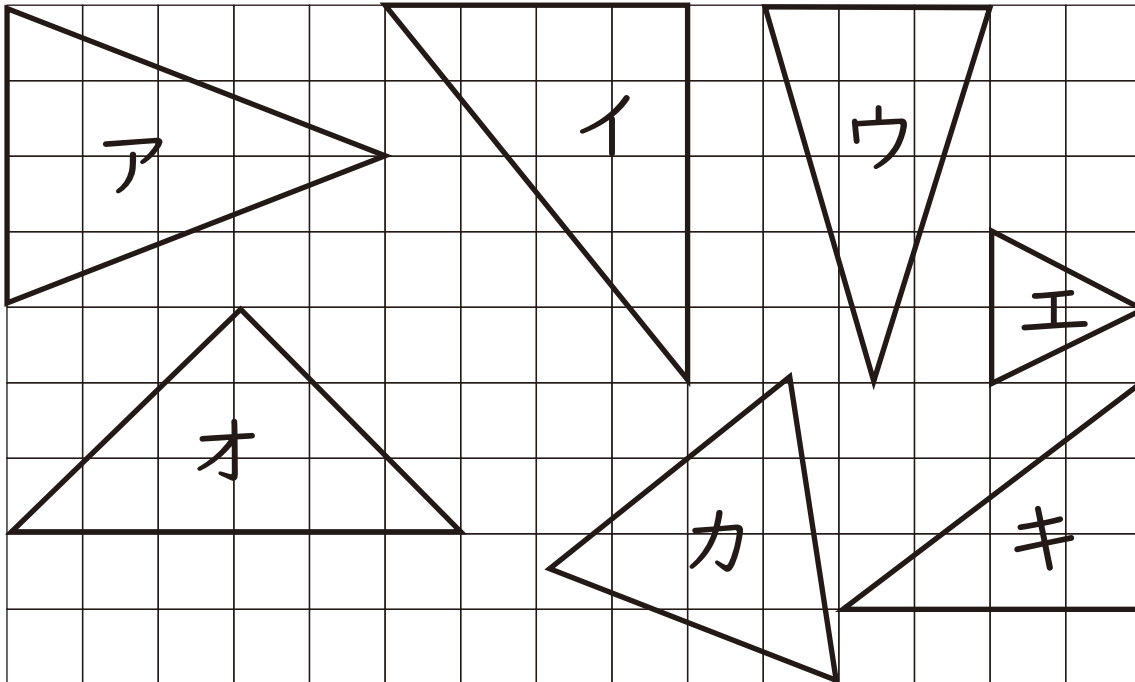
いろいろな三角形 2

月 日

名前

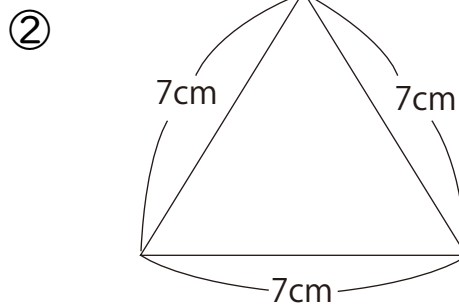
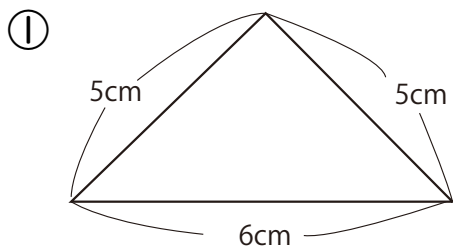
点

- 1 下の三角形をなかまわけして、表に書きましょう。
みつけましょう。



二等辺三角形	
直角三角形	
正三角形	

- 2 次の三角形は、何という三角形ですか。



答え

- 1 二等辺三角形 ア、ウ、オ
直角三角形 イ、キ
正三角形 エ、カ

- 2 ① 二等辺三角形
② 正三角形