

小数3

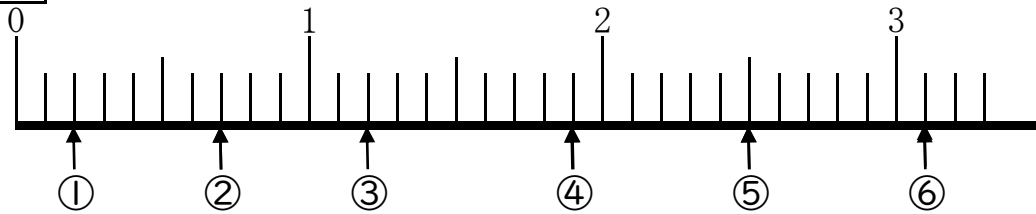
目標時間 8分

NO.1

名前

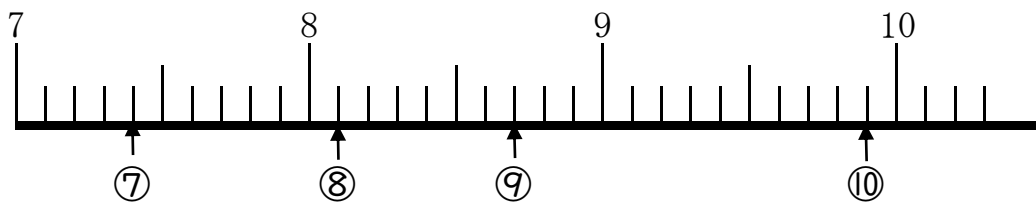
/19 点

1 ↑のしめすところの数をかきましょう。



① () ② () ③ ()

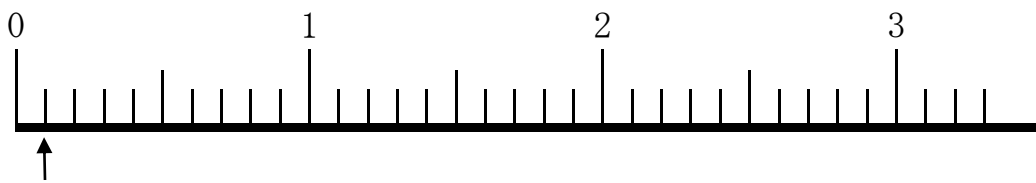
④ () ⑤ () ⑥ ()



⑦ () ⑧ () ⑨ () ⑩ ()

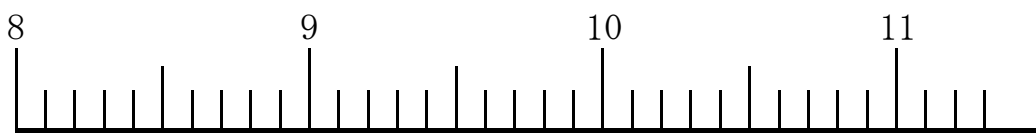
2 つぎの数字を、アのように数直線上に↑で書きましょう。

ア 0 イ 1 ウ 1 エ 2 オ 3



ア

カ 8 キ 9 ク 10 ケ 10.4 コ 11.2



答え

1

① (0) ② (1) ③ (1)

④ (2) ⑤ (3) ⑥ (3)

⑦ (7) ⑧ (8) ⑨ (9) ⑩ (10)

2

