

# 分数のたし算・ひき算I

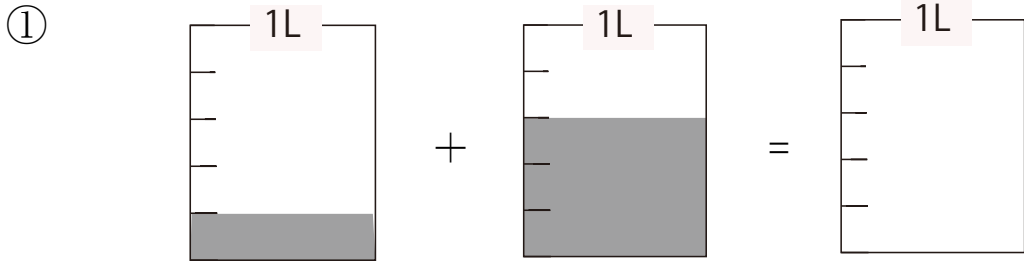
NO. 1

月 日

名前

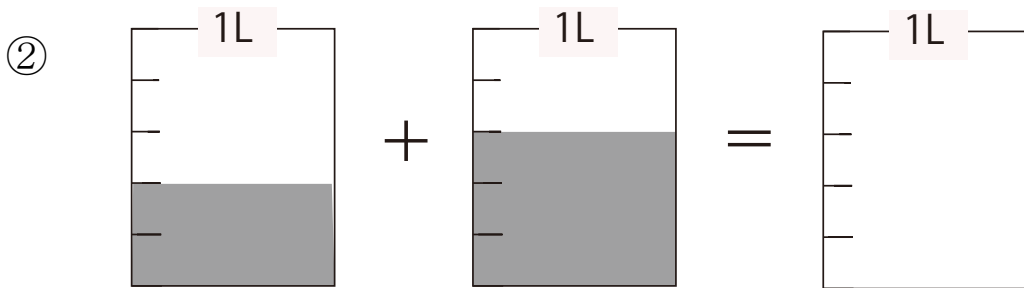
点

1 図を見て分数のたし算を考えましょう。



色をぬりましょう

$$\frac{1}{5} + \frac{3}{5} =$$



色をぬりましょう

$$\frac{2}{5} + \frac{3}{5} = \frac{\quad}{5} =$$

2 たし算をしましょう。

①  $\frac{1}{4} + \frac{1}{4}$

②  $\frac{2}{6} + \frac{1}{6}$

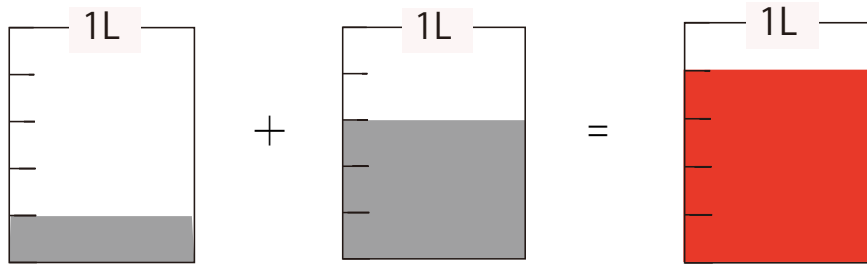
③  $\frac{3}{7} + \frac{2}{7}$

④  $\frac{3}{8} + \frac{5}{8}$

答え

1

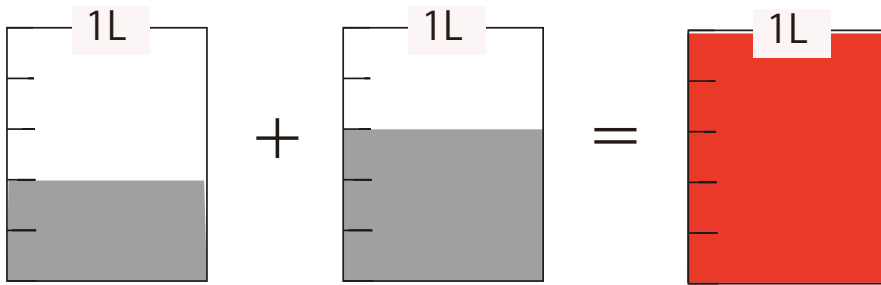
①



色をぬりましょう

$$\frac{1}{5} + \frac{3}{5} = \frac{4}{5}$$

②



色をぬりましょう

$$\frac{2}{5} + \frac{3}{5} = \frac{5}{5} = 1$$

2

①  $\frac{1}{4} + \frac{1}{4} = \frac{2}{4}$

②  $\frac{2}{6} + \frac{1}{6} = \frac{3}{6}$

③  $\frac{3}{7} + \frac{2}{7} = \frac{5}{7}$

④  $\frac{3}{8} + \frac{5}{8} = \frac{8}{8} = 1$