

# 分数3

NO. 1

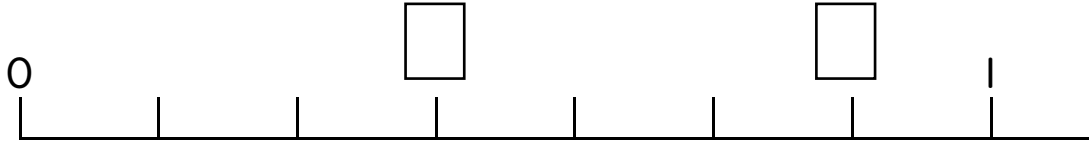
月 日

名前

点

1 □にあてはまる分数をかきましょう。

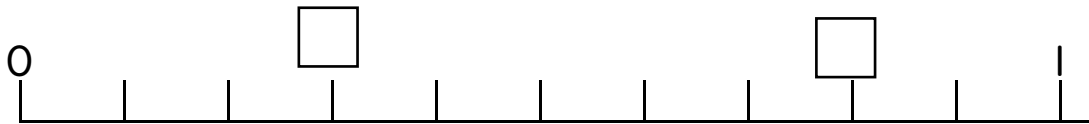
①



②



③



2 次の□にあてはまる数を書きなさい。

①

$\frac{4}{7}$  は  $\frac{1}{7}$  を □ つ集めた数です。

②

□ を 5 つ集めた数は  $\frac{5}{6}$  です。

③

$\frac{1}{4}$  Lが □ こぶんで、1Lになります。

④

$\frac{4}{4}$  mは、ちょうど □ mになります。

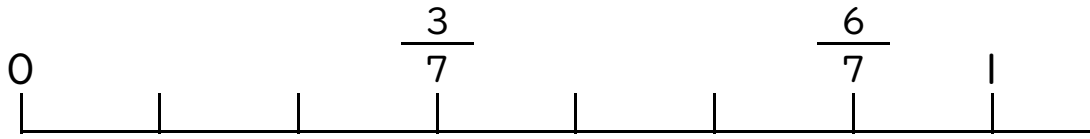
⑤

1dL を 5 にわけた1つ分は □ dL になります。

答え

1

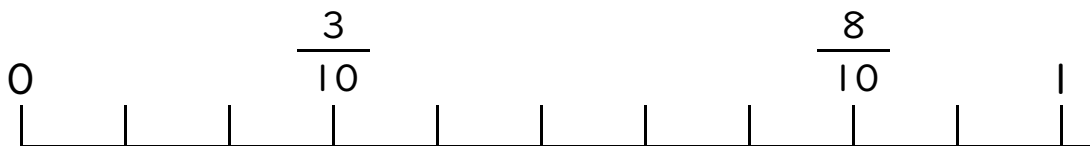
①



②



③



2

① 4

②  $\frac{1}{6}$

③ 4

④ 1

⑤  $\frac{1}{5}$