

分数 I

NO. 2


月 日

名前

点

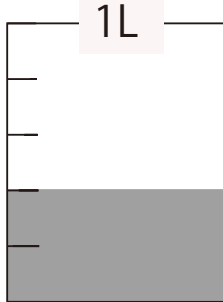
1 次の図を見て、

①




L

②



L

③

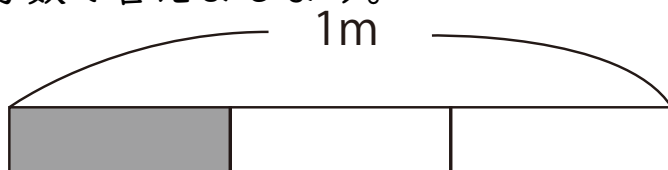


L

2 色をぬった長さは、何mといえましょうか。

分数で答えましょう。

①



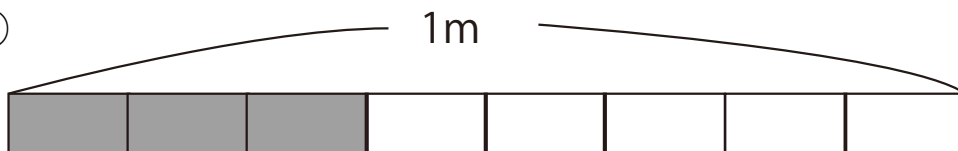
m

②



m

③



m

答え

$$\boxed{1} \text{ ① } \frac{2}{3} \text{ L} \quad \text{② } \frac{2}{5} \text{ L} \quad \text{③ } \frac{7}{9} \text{ L}$$

$$\boxed{2} \text{ ① } \frac{1}{3} \text{ m} \quad \text{② } \frac{5}{6} \text{ m} \quad \text{③ } \frac{3}{8} \text{ m}$$