

分数 I

NO. I

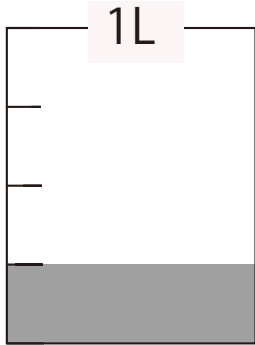
月 日

名前

点

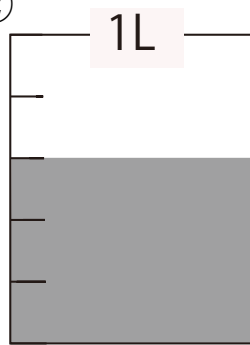
1 つぎの水のかさを分数を使って表しましょう。

①



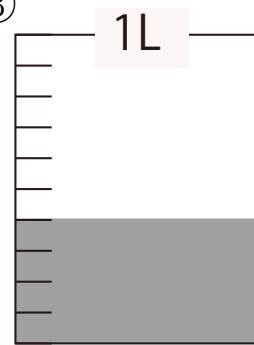
L

②



L

③

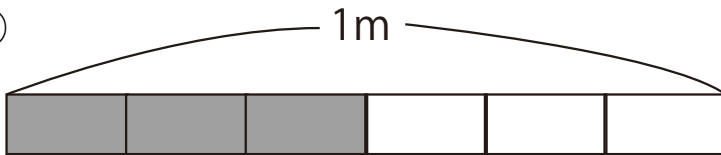


L

2 色をぬった長さは、何mといえましょうか。

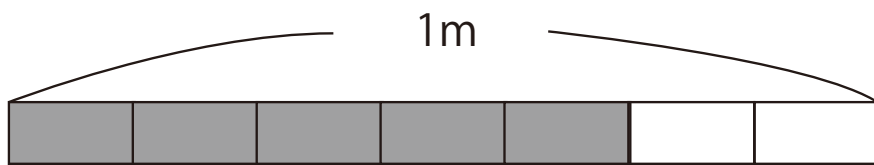
分数で答えましょう。

①



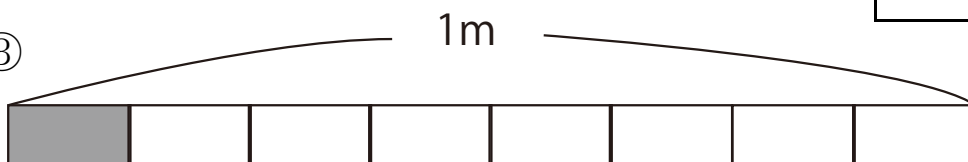
m

②



m

③



m

答え

$$\boxed{1} \text{ ① } \frac{1}{4} \text{ L} \quad \text{② } \frac{3}{5} \text{ L} \quad \text{③ } \frac{4}{10} \text{ dL}$$

$$\boxed{2} \text{ ① } \frac{3}{6} \text{ m} \quad \text{② } \frac{5}{7} \text{ m} \quad \text{③ } \frac{1}{8} \text{ m}$$