

20より 大きい かずの ひきざん

2

がつ にち

■ に かずを かきましょう。

① 68 - 5 の けいさん

$$68 - 5 = 60 + \boxed{} - 5$$

⇒ 60 と で 答え

② 37 - 2 の けいさん

$$37 - 2 = 30 + \boxed{} - 2$$

⇒ 30 と で 答え

③ 71 - 30 の けいさん

$$71 - 30 = 70 + \boxed{} - 30$$

⇒ 40 と で 答え

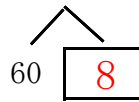
④ 65 - 50 の けいさん

$$65 - 50 = 60 + \boxed{} - 50$$

⇒ 10 と で 答え


こたえ

① 68 - 5 の けいさん

$$68 - 5 = 60 + \boxed{8} - 5$$


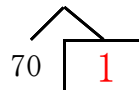
⇒ 60 と $\boxed{3}$ で こたえ $\boxed{63}$

② 37 - 2 の けいさん

$$37 - 2 = 30 + \boxed{7} - 2$$


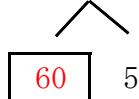
⇒ 30 と $\boxed{5}$ で こたえ $\boxed{35}$

③ 71 - 30 の けいさん

$$71 - 30 = 70 + \boxed{1} - 30$$


⇒ 40 と $\boxed{1}$ で こたえ $\boxed{41}$

④ 65 - 50 の けいさん

$$65 - 50 = 60 + \boxed{5} - 50$$


⇒ 10 と $\boxed{5}$ で こたえ $\boxed{15}$