


重さのもんだい

NO 2

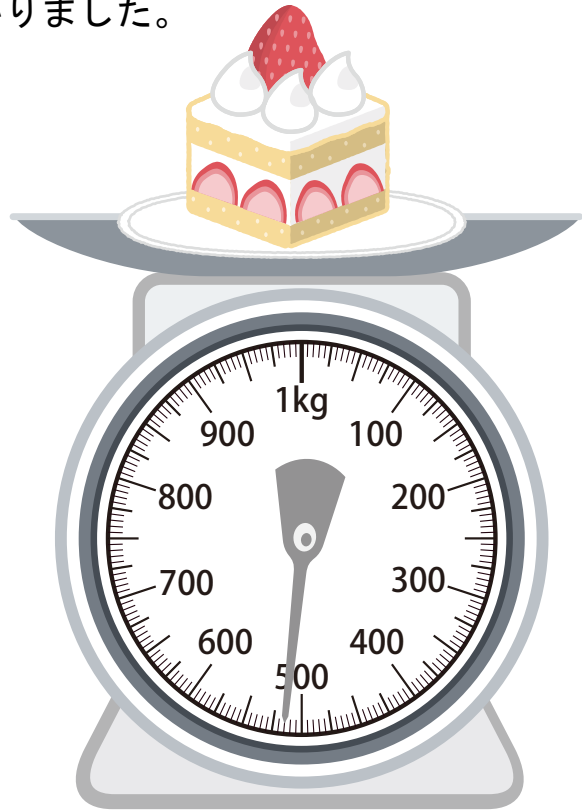
月 日

名前

◆ おさらにケーキをのせて、重さをはかりました。



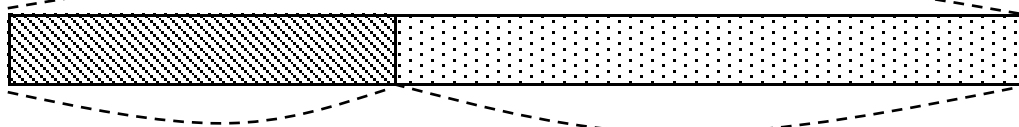
おさらの重さ



全体の重さ

① 下の図の□にあう重さを、上のはかりの絵をみて書きましょう。

全体の重さ g



おさらの重さ g

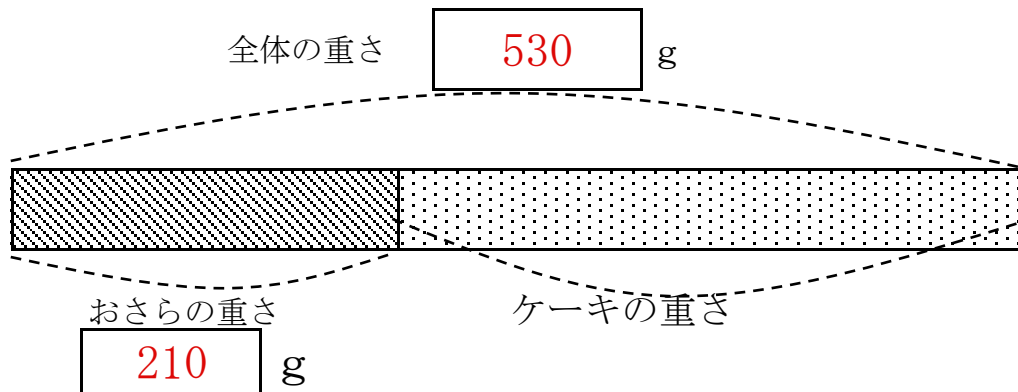
ケーキの重さ

② ケーキの重さは何gですか。

式

答え

① 下の図の□にあう重さを，上のはかりの絵をみて書きましょう。



② ケーキの重さは何 g ですか。

式

$$530 - 210 = 320$$

320 g