

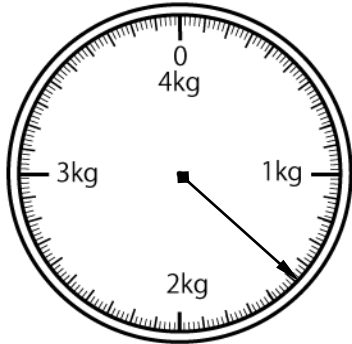
はかり

NO 4

月 日

名前

1 下の絵は、はかりを表したものです。



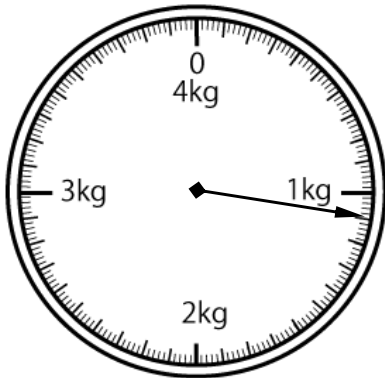
① 何kgまではかれますか。

② いちばん小さい1目もりは何gですか。

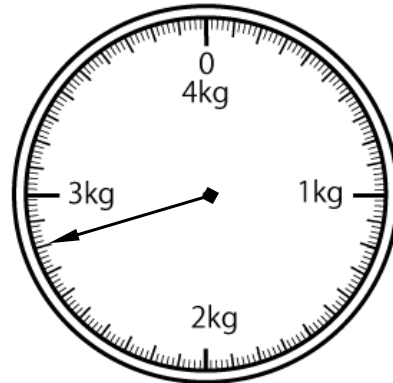
③ はりのさしている重さは何gですか。

2 はりのさしている重さを□に書きなさい。

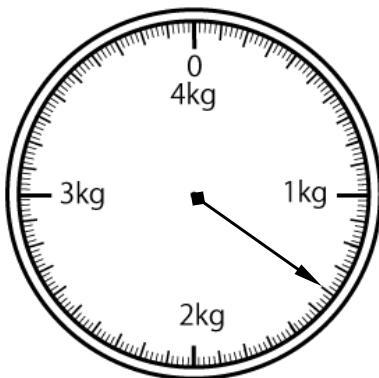
①



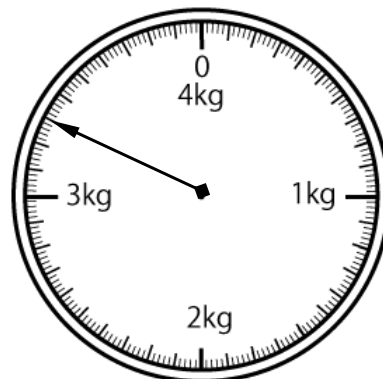
②



③



④



答え

1

- ① 4 kg      ② 10 g      ③ 1500 g  
1 kg 500 g

2

- ① 1100 g      ② 2800 g  
1 kg 100 g      2 kg 800 g  
③ 1400 g      ④ 3300 g  
1 kg 400 g      3 kg 300 g