


はかり

NO 3

月 日

名前

1 下の絵は、はかりを表したものです。



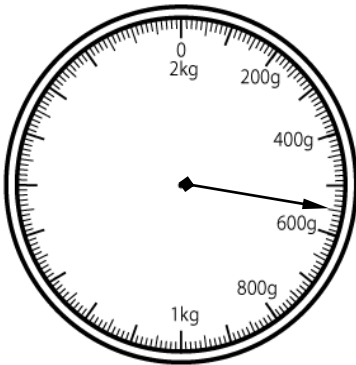
① 何kgまではかれますか。

② いちばん小さい1目もりは何gですか。

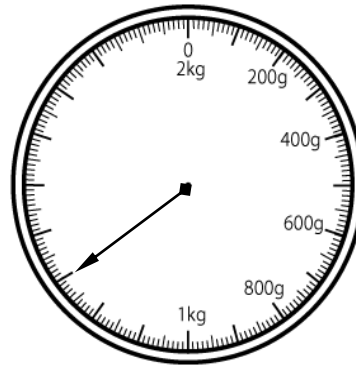
③ はりのさしている重さは何gですか。

2 はりのさしている重さを□に書きなさい。

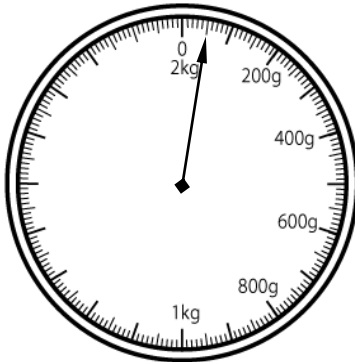
①



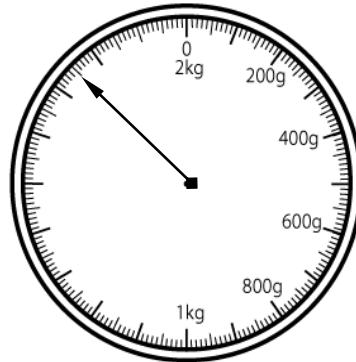
②



③



④



答え

1

① 2 kg

② 10 g

③ 1200 g

1 kg 200 g

2

① 550 g

② 1300 g

(1 kg 300 g)

③ 50 g

④ 1750 g

(1 kg 750)