


はかり

NO 2

月 日

名前

1 下の絵は、はかりを表したものです。




① 何kgまではかれますか。

② いちばん小さい1目もりは何gですか。


③ はりのさしている重さは何gですか。

2 はりのさしている重さを□に書きなさい。


①




②



③



④



答え

1

- ① 1 kg ② 10 g ③ 560 g

2

- ① 160 g ② 730 g
③ 370 g ④ 90 g