

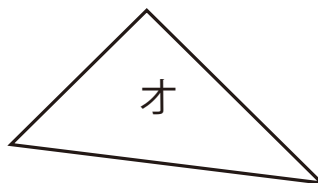
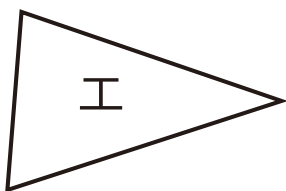
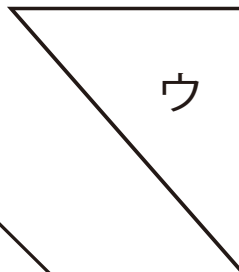
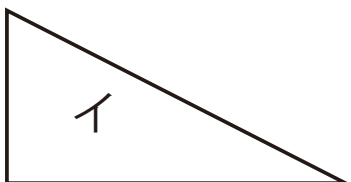
# 直角三角形 1

月 日

名前

点

1 直角三角形は どれですか。





( ) と ( ) と ( )

2  に あてはまる ことばを 入れましょう。

直角の かどが ある 三角形を,  と  
いいます。

3 つぎの 直角三角形を かきましょう。

- ① 直角を はさむ へんの 長さが, 3 cm と 4 cm の 直角三角形
- ② 直角を はさむ へんの 長さが, 5 cm と 2 cm の 直角三角形

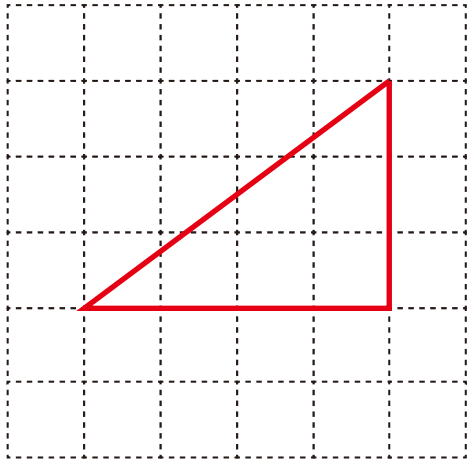


答え

1 ( イ ) と ( ウ ) と ( オ )

2 直角三角形

3 ①



②

