

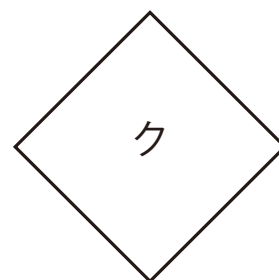
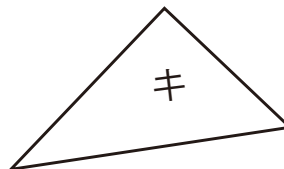
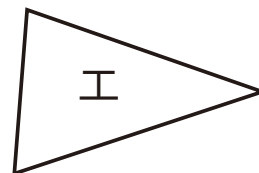
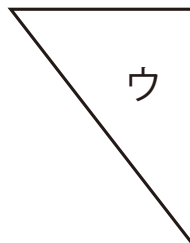
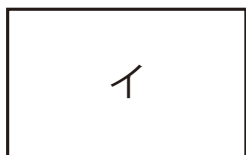
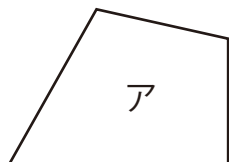
# まとめ1

\_\_\_\_\_ 月 \_\_\_\_\_ 日
 

名前	
----	--

 \_\_\_\_\_ 点

① 長方形，正方形，直角三角形は，どれですか。



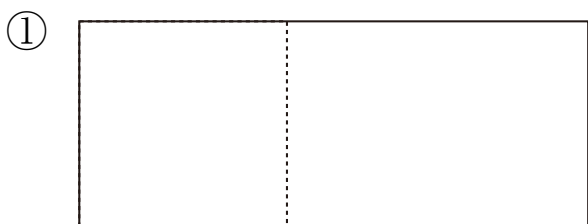
長方形

正方形

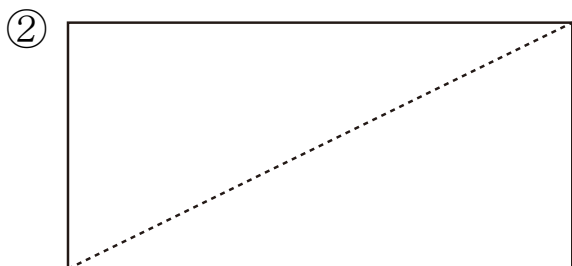
直角三角形



② 次の形を 点線で 切ると どんな形が できますか。



(            ) と (            )



2つの (            )

答え

1

長方形

イ、オ

正方形

カ、ク

直角三角形

ウ、キ

2

① (正方形) と (長方形)

② 2つの (直角三角形)