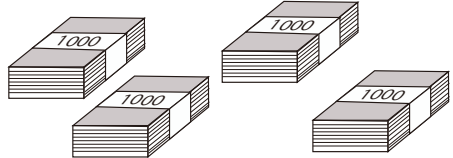


10000までの数 2

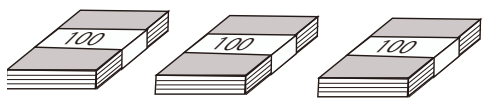
目標時間 5分

名前 _____ /8

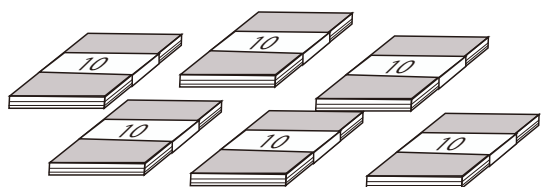
1 がようし 画用紙がたくさんあります。 の中に数を
書きましょう。



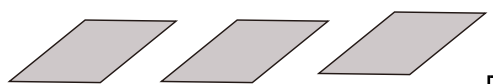
1000のたばが つ (百のくらい)



100のたばが つ (百のくらい)



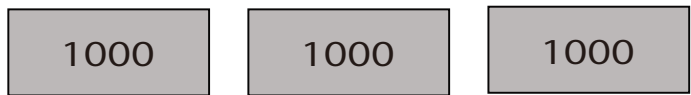
10のたばが つ (十のくらい)



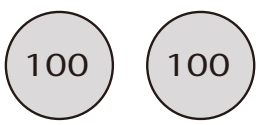
1まいのがようしが つ (一のくらい)

全部で まい

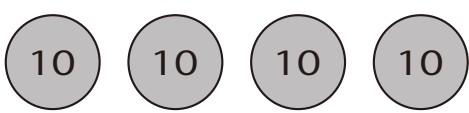
2 お金をかぞえて の中に数を書きましょう。



1000円さつが まい



100円玉が つ



10円玉が つ



1円玉が つ

あわせて 円

答え

1

1000のたばが

4

つ (百のくらい)

100のたばが

3

つ (百のくらい)

10のたばが

6

つ (十のくらい)

1まいのがようしが

3

つ (一のくらい)

全部で

4	3	6	3	まい
---	---	---	---	----

2

1000円さつが

3

まい

100円玉が

2

つ

10円玉が

4

つ

1円玉が

5

つ

あわせて

3	2	4	5
---	---	---	---

円