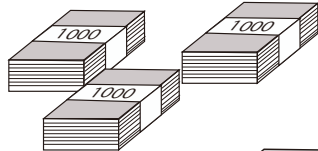


10000までの数 2


目標時間 5分

名前 _____ /8

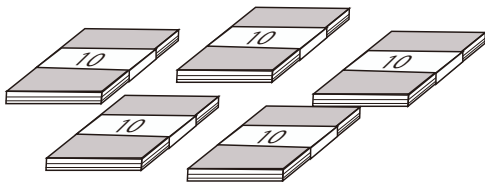
1 がようし 画用紙がたくさんあります。 の中に数を
書きましょう。



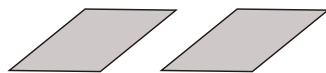
1000のたばが つ (百のくらい)



100のたばが つ (百のくらい)



10のたばが つ (十のくらい)



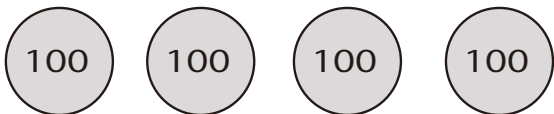
1まいのがようしが つ (一のくらい)

全部で まい

2 お金をかぞえて の中に数を書きましょう。



1000円さつが まい



100円玉が つ



10円玉が つ



1円玉が つ

あわせて 円

答え

1

1000のたばが

3

つ

(百のくらい)

100のたばが

4

つ

(百のくらい)

10のたばが

5

つ

(十のくらい)

1まいのがようしが

2

つ

(一のくらい)

全部で

3

4

5

2

まい

2

1000円さつが

2

まい

100円玉が

4

つ

10円玉が

5

つ

1円玉が

6

つ

あわせて

2

4

5

6

円

