



くりあがりのある たしざん2


がつ にち

なまえ	
-----	--

1 □に かずを かきましょう。

①  $9 + 3 = \square$

②  $8 + 5 = \square$

③  $7 + 6 = \square$

2 □に かずを かきましょう。

① $9 + 5 \rightarrow$ 9 に \square を たして 10 。
 10 と \square で \square 。

② $8 + 4 \rightarrow$ 8 に \square を たして 10 。
 10 と \square で \square 。

③ $6 + 7 \rightarrow$ 6 に \square を たして 10 。
 10 と \square で \square 。

こたえ

$$\boxed{1} \quad \textcircled{1} \quad 12$$

$$\textcircled{2} \quad 13$$

$$\textcircled{3} \quad 13$$

$$\boxed{2} \quad \textcircled{1} \quad 9 \text{ に } \boxed{1} \text{ を たして } 10。$$

$$10 \text{ と } \boxed{4} \text{ で } \boxed{14}。$$

$$\textcircled{2} \quad 8 \text{ に } \boxed{2} \text{ を たして } 10。$$

$$10 \text{ と } \boxed{2} \text{ で } \boxed{12}。$$

$$\textcircled{3} \quad 6 \text{ に } \boxed{4} \text{ を たして } 10。$$

$$10 \text{ と } \boxed{3} \text{ で } \boxed{13}。$$