



くりあがりのある たしざん1


がつ にち

なまえ

1 □に かずを かきましょう。

① 
 $7 + 5 = \square$

② 
 $9 + 5 = \square$

③ 
 $7 + 7 = \square$

2 □に かずを かきましょう。

① $6 + 8 \rightarrow$ 6 に \square を たして 10 。
 10 と \square で \square 。

② $9 + 4 \rightarrow$ 9 に \square を たして 10 。
 10 と \square で \square 。

③ $7 + 8 \rightarrow$ 7 に \square を たして 10 。
 10 と \square で \square 。

こたえ

1 ① 12

② 14

③ 14

2 ① 6 に 4 を たして 10。

10 と 4 で 14。

② 9 に 1 を たして 10。

10 と 3 で 13。

③ 7 に 3 を たして 10。

10 と 5 で 15。