



# くりあがりのある たしざん1


がつ 日にち

なまえ

1 □に かずを かきましょう。

①   $9 + 3 = \square$

②   $8 + 5 = \square$

③   $7 + 6 = \square$

2 □に かずを かきましょう。

①  $9 + 5 \rightarrow$

9 に  を たして 10。  
10 と  で 。

②  $8 + 4 \rightarrow$

8 に  を たして 10。  
10 と  で 。

③  $6 + 7 \rightarrow$

6 に  を たして 10。  
10 と  で 。

## こたえ

① 12

② 13

③ 13

① 9 に  を たして 10。

10 と  で 。

② 8 に  を たして 10。

10 と  で 。

③ 6 に  を たして 10。

10 と  で 。