

# ながさ くらべ1

がつ

にち

なまえ

--

1 ますの いくつぶんの ながさですか。

①



--	--	--	--	--	--	--	--	--	--

( ) つぶん


②



--	--	--	--	--	--	--	--	--	--

( ) つぶん

③



--	--	--	--	--	--	--	--	--	--

( ) つぶん

④



--	--	--	--	--	--	--	--	--	--


( ) つぶん

2 ノートの たてと よこの ながさを しらべました。

たて



よこ



たては ますの  
( ) つぶん

よこは ますの  
( ) つぶん

たては よこより ますの  
( ) つぶん

ながいです。

こたえ

1 ますの いくつぶんの ながさですか。

①




( 5 ) つぶん

②



( 4 ) つぶん

③



( 9 ) つぶん


④




( 2 ) つぶん

2 ノートの たてと よこの ながさを しらべました。

たて



よこ



たては ますの

( 4 ) つぶん

よこは ますの

( 3 ) つぶん

たては よこより ますの

( 1 ) つぶん

ながいです。