

円の問題

目標時間	8分
------	----

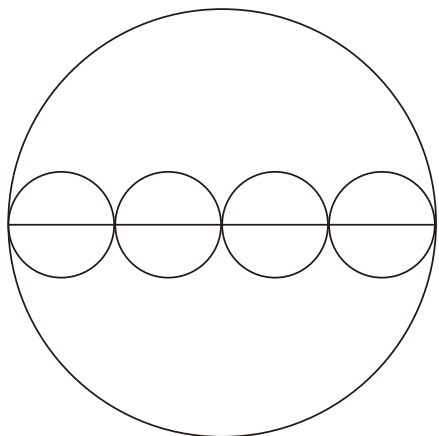
NO.2

名前

 / 5

1 下の円を見て、答えましょう。

大きな円の直径は 16 cmです。

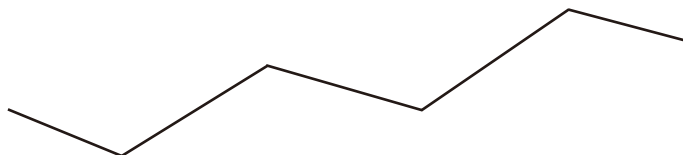


① 大きい円の半径は cmです。

② 小さい円の直径は cmです。

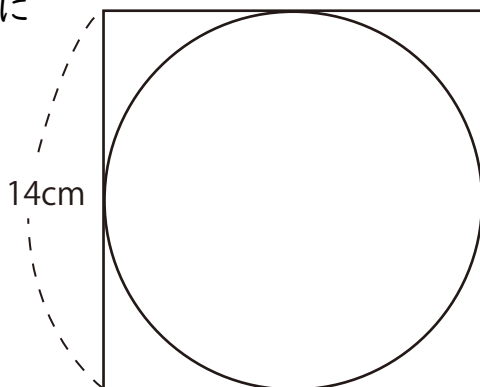
③ 小さい円の半径は cmです。

2 下のおれ線はなんcmでしょう。コンパスでおれ線を直線にうつしてからはかりましょう。



答え _____

3 一辺が 14 cmの正方形の中に
きちんとはまる円の半径は
何cmになりますか。



答え _____

答え

1

① 8 cm

② $16 \div 4 = 4$ 4 cm

③ 2 cm

2

10 cm

3

$14 \div 2 = 7$ 7 cm