

長いものの長さ 1

目標時間	5分
------	----

NO. 1

名前	
----	--

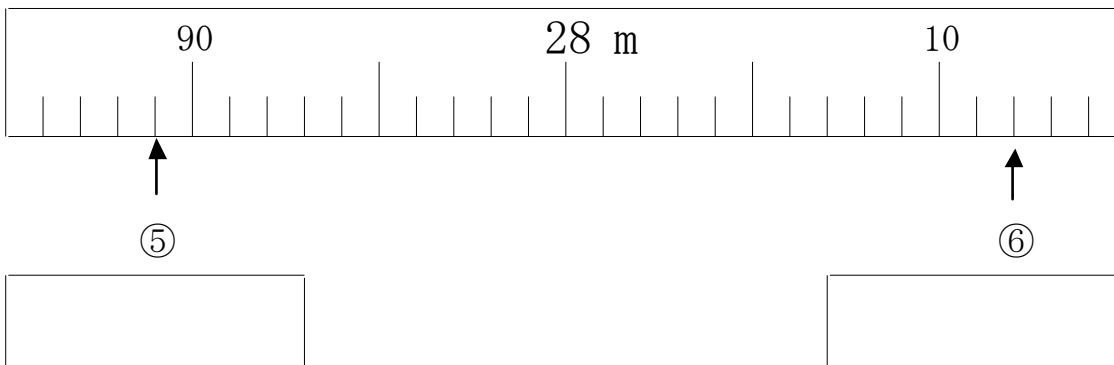
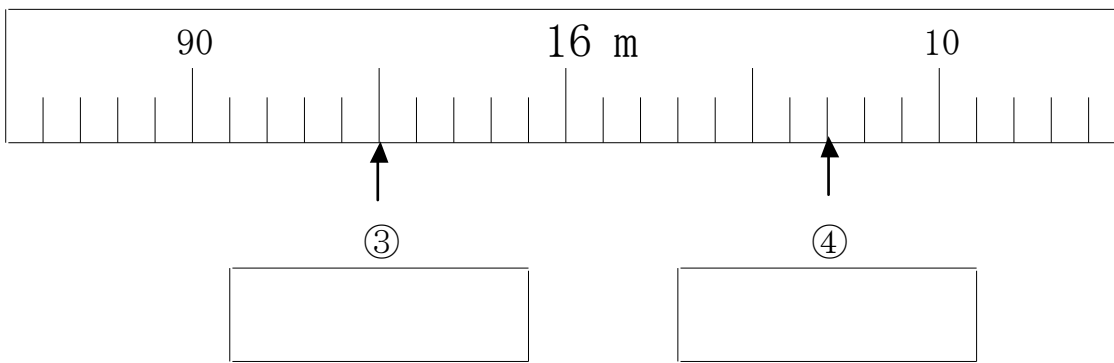
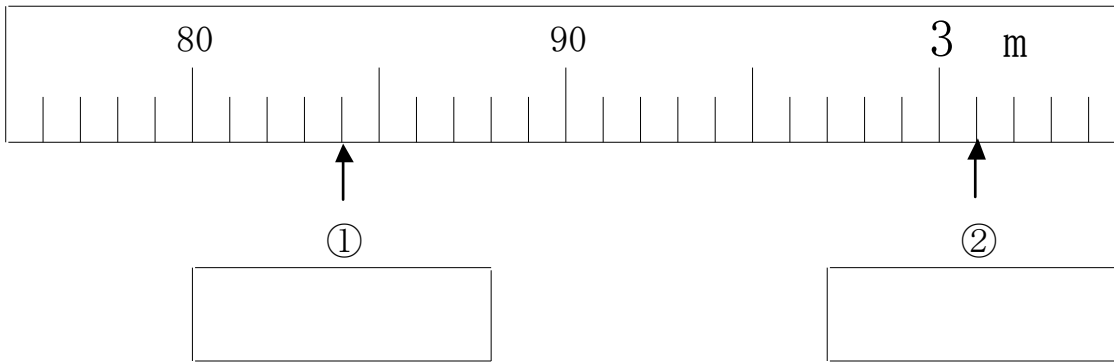
/7

1 □のなかにことを書きましょう。

長いものの長さや、まるいものの長さをはかるときは、

を使うとべんりです。

2 やじるしのめもりを読みましょう。



答え

1 まきじゃく

- 2
- ① 2 m 84 cm
 - ② 3 m 1 cm
 - ③ 15 m 95 cm
 - ④ 16 m 7 cm
 - ⑤ 27 m 89 cm
 - ⑥ 28 m 12 cm