

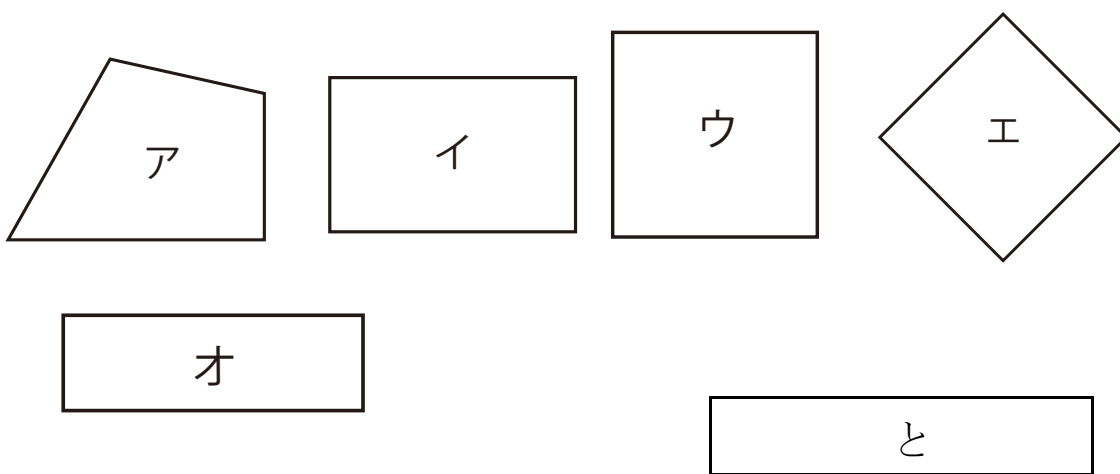
長方形と正方形 4

月 日 名前 点

1 □に数やことばを書きましょう。



4つのかどがみんな直角で へんの長さがみんな同じ
四角形を といいます。

2 正方形はどれとどれですか。



3 つぎの 正方形を かきましょう。

- ① 1つの へんの 長さが 4 cmの 正方形
- ① 1つの へんの 長さが 3 cmの 正方形



答え

1

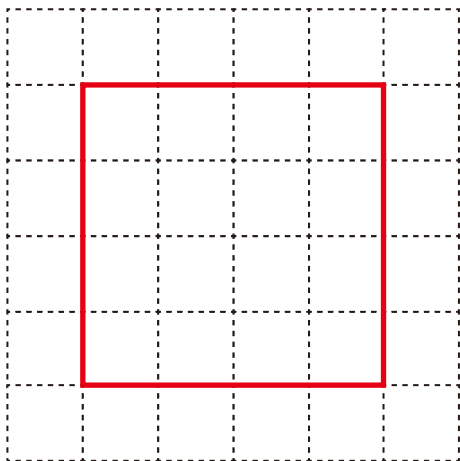
正方形

2

ウ、エ

3

①



②

