

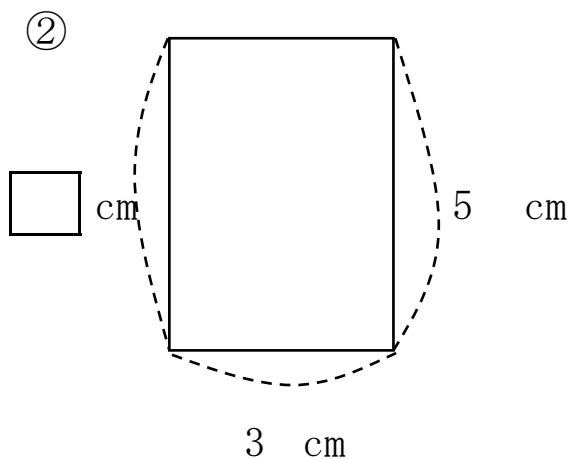
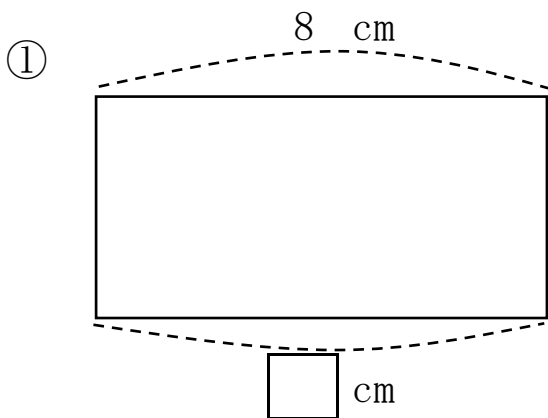
長方形と正方形 3

月 日

名前

点

- 1 下の図は ぜんぶ長方形です。
□にあてはまる数をかきましょう。





- 2 つぎの 長方形を かきましょう。

① たて 3 cm, よこ 4 cm

② たて 5 cm, よこ 3 cm

の 長方形

の 長方形



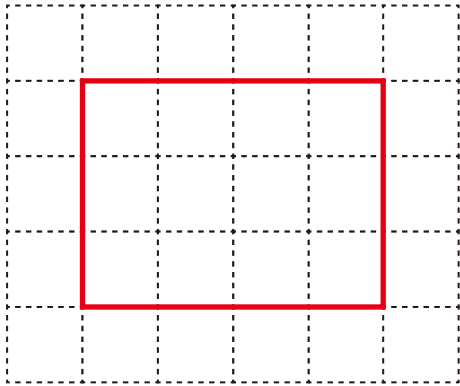
答え

1

① 8 cm ② 5 cm

2

①



②

