

# 時こくと時間 午前と午後1

NO 1

月 日

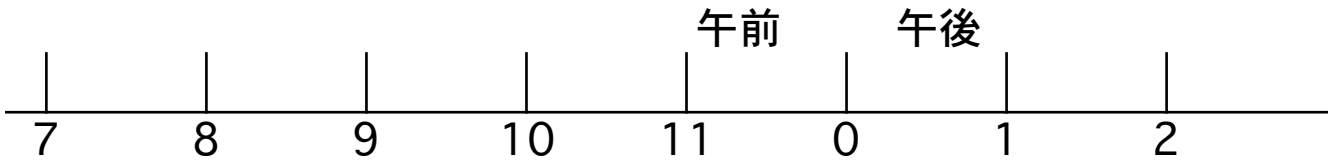
名前

点

◆次の問いに答えましょう。

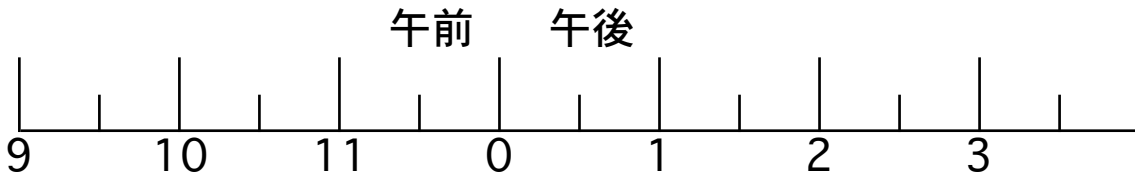
① 午前 7 時 から 午後 2 時 までの時間をもとめましょう。

\*下の図に線をひいて考えましょう。



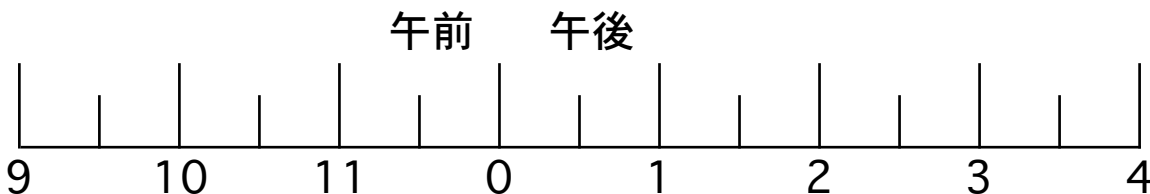

② 午前 9 時 30 分 から 午後 3 時 までの時間をもとめましょう。

\*下の図に線をひいて考えましょう。



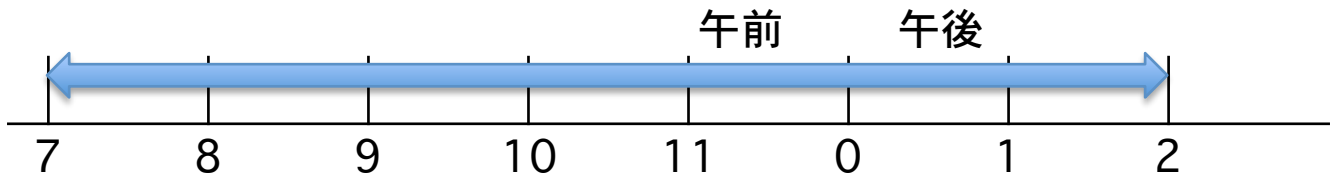

③ 午前 9 時 30 分から 4 時間 たった時こくをもとめましょう。

\*下の図に線をひいて考えましょう。



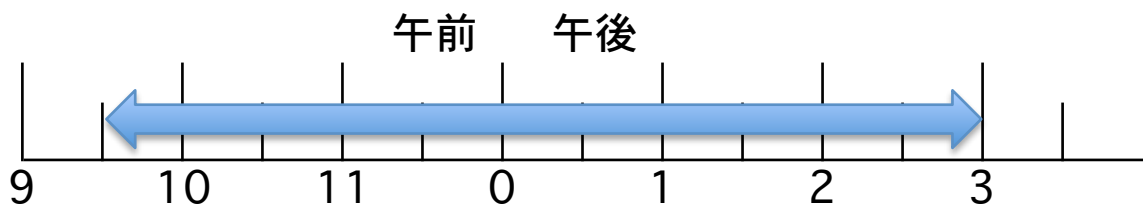
# 答え

①



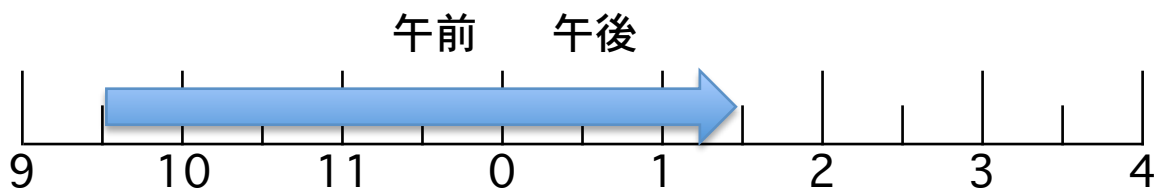
7 時間

②



5 時間 30 分

③



午後 1 時 30 分