

あといくつ

6

がつ

にち

なまえ

① あといくつで 10こになりますか。




こたえ

あと

こ

② あといくつで 10こになりますか。



こたえ

あと

こ

③ あといくつで 10こになりますか。

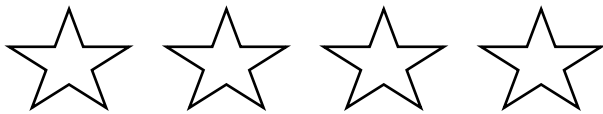


こたえ

あと

こ

④ あといくつで 10こになりますか。

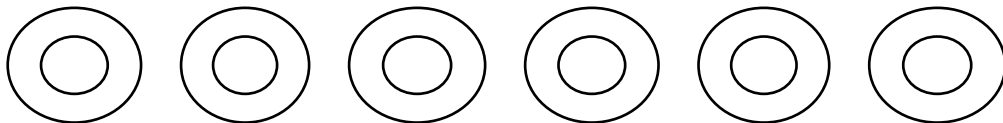


こたえ

あと

こ

⑤ あといくつで 10こになりますか。



こたえ

あと

こ

こたえ


① あといくつで 10こになりますか。



こたえ

あと こ

② あといくつで 10こになりますか。



こたえ

あと こ


③ あといくつで 10こになりますか。



こたえ

あと こ

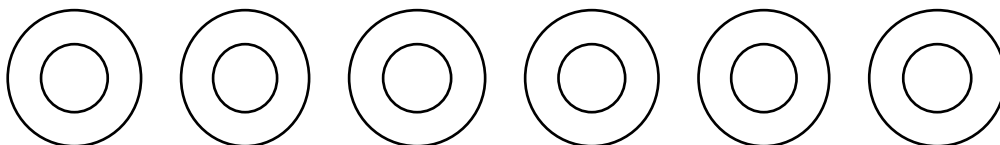
④ あといくつで 10こになりますか。



こたえ

あと こ

⑤ あといくつで 10こになりますか。



こたえ

あと こ