

あといくつ

5

がつ

にち

なまえ

① あといくつで 9こになりますか。




こたえ

あと

こ

② あといくつで 9こになりますか。




こたえ

あと

こ

③ あといくつで 10こになりますか。



こたえ

あと

こ

④ あといくつで 10こになりますか。

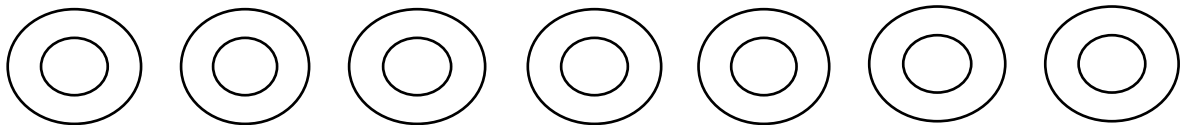


こたえ

あと

こ

⑤ あといくつで 10こになりますか。



こたえ

あと

こ

こたえ

① あといくつで 9こになりますか。




こたえ

あと

こ

② あといくつで 9こになりますか。



こたえ

あと

こ

③ あといくつで 10こになりますか。



こたえ

あと

こ

④ あといくつで 10こになりますか。

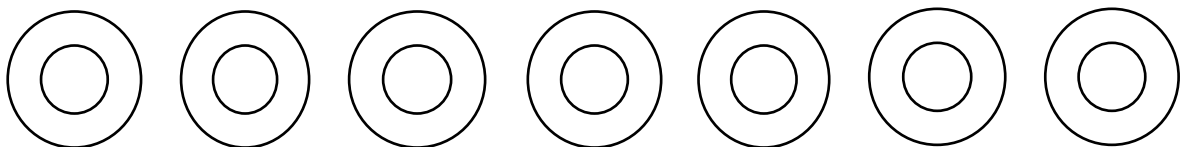


こたえ

あと

こ

⑤ あといくつで 10こになりますか。



こたえ

あと

こ