

あといくつ

4

がつ

にち

なまえ

① あといくつで 8こになりますか。




こたえ

あと

こ

② あといくつで 8こになりますか。

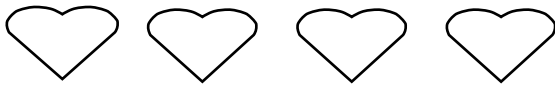


こたえ

あと

こ

③ あといくつで 8こになりますか。



こたえ

あと

こ

④ あといくつで 9こになりますか。

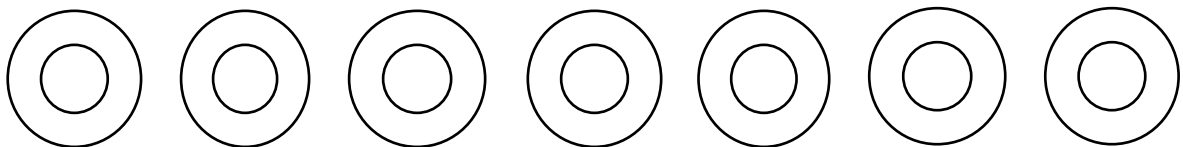


こたえ

あと

こ

⑤ あといくつで 9こになりますか。



こたえ

あと

こ

こたえ


① あといくつで 8こになりますか。



こたえ

あと こ

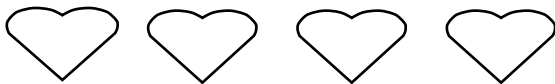
② あといくつで 8こになりますか。



こたえ

あと こ

③ あといくつで 8こになりますか。



こたえ

あと こ

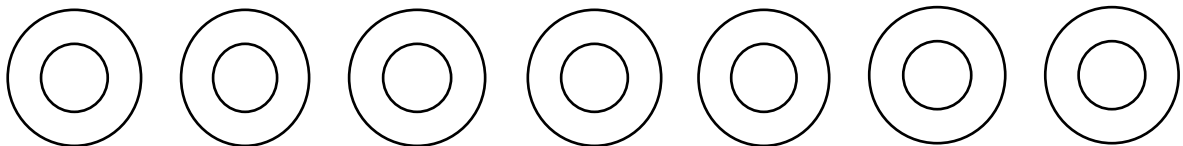
④ あといくつで 9こになりますか。



こたえ

あと こ

⑤ あといくつで 9こになりますか。



こたえ

あと こ