

あといくつ

3

がつ

にち

なまえ

① あといくつで6こになりますか。




こたえ

あと

こ

② あといくつで6こになりますか。



こたえ

あと

こ

③ あといくつで7こになりますか。



こたえ

あと

こ

④ あといくつで7こになりますか。

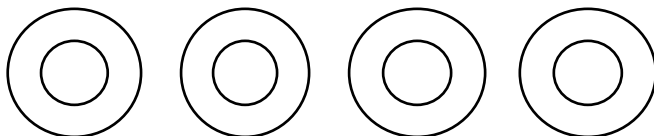


こたえ

あと

こ

⑤ あといくつで7こになりますか。



こたえ

あと

こ

こたえ


① あといくつで6こになりますか。



こたえ

あと こ

② あといくつで6こになりますか。



こたえ

あと こ

③ あといくつで7こになりますか。



こたえ

あと こ

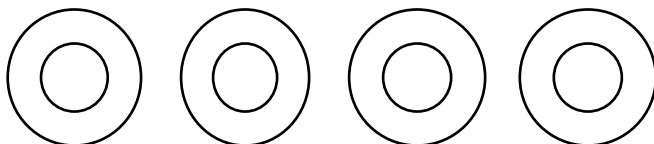
④ あといくつで7こになりますか。



こたえ

あと こ

⑤ あといくつで7こになりますか。



こたえ

あと こ