

# あといくつ

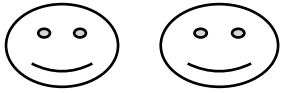
2

がつ

にち

なまえ

① あといくつで5こになりますか。




こたえ

あと

こ

② あといくつで5こになりますか。



こたえ

あと

こ

③ あといくつで5こになりますか。



こたえ

あと

こ

④ あといくつで6こになりますか。

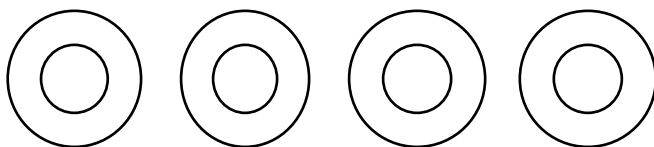


こたえ

あと

こ

⑤ あといくつで6こになりますか。



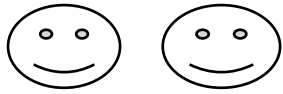
こたえ

あと

こ

こたえ


① あといくつで5こになりますか。



こたえ

あと  こ

② あといくつで5こになりますか。



こたえ

あと  こ

③ あといくつで5こになりますか。



こたえ

あと  こ

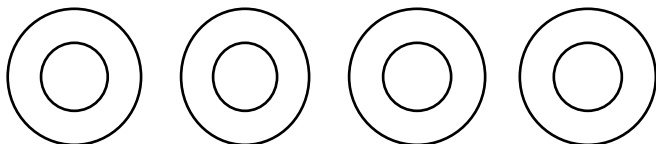
④ あといくつで6こになりますか。



こたえ

あと  こ

⑤ あといくつで6こになりますか。



こたえ

あと  こ