

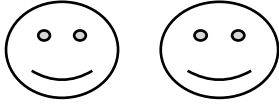
あといくつ

がつ

にち

なまえ


① あといくつで 3こになりますか。



こたえ

あと

② あといくつで 3こになりますか。



こたえ

あと

③ あといくつで 4こになりますか。



こたえ

あと

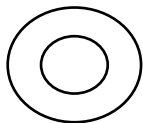
④ あといくつで 4こになりますか。



こたえ

あと

⑤ あといくつで 4こになりますか。

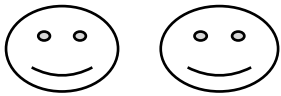


こたえ

あと

こたえ


① あといくつで 3こになりますか。



こたえ

あと こ

② あといくつで 3こになりますか。



こたえ

あと こ

③ あといくつで 4こになりますか。



こたえ

あと こ

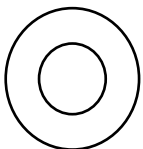
④ あといくつで 4こになりますか。



こたえ

あと こ

⑤ あといくつで 4こになりますか。



こたえ

あと こ