

なんじなんぷん2

NO 1

月	日	名前		点
---	---	----	--	---

◆ とけいのはりを図にかきましょう。

① 5 時

② 10 時



③ 1 時 30 分

④ 6 時 30 分



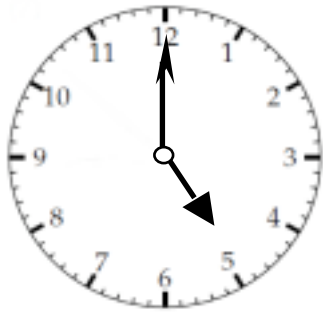
⑤ 3 時 45 分

⑥ 10 時 15 分

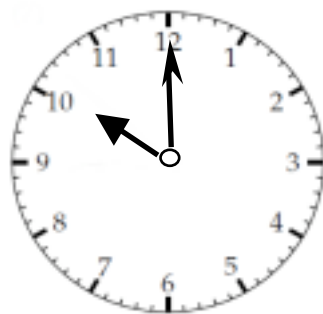


こたえ

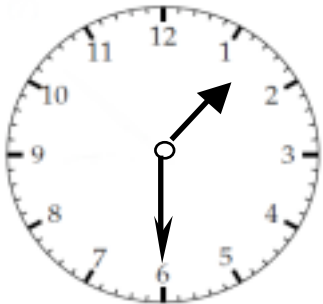
①



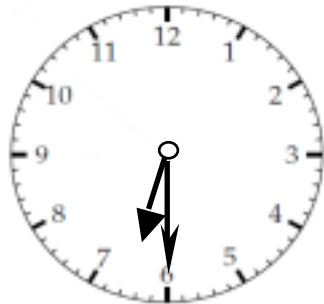
②



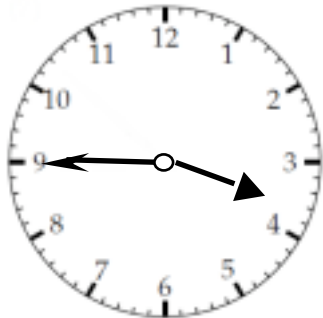
③



④



⑤



⑥

