

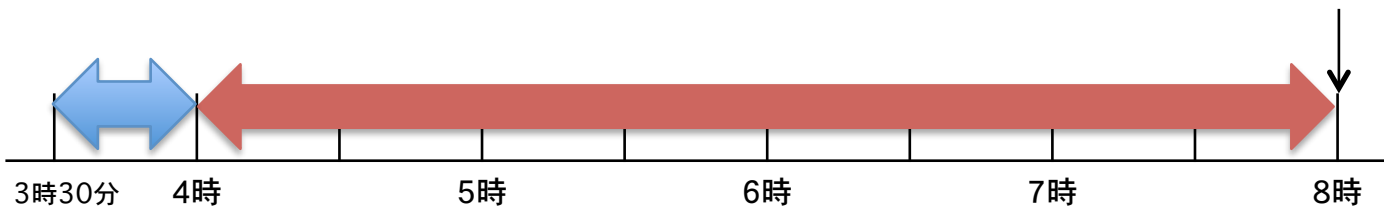
# 時ごとと時間 もとめ方2

NO.3

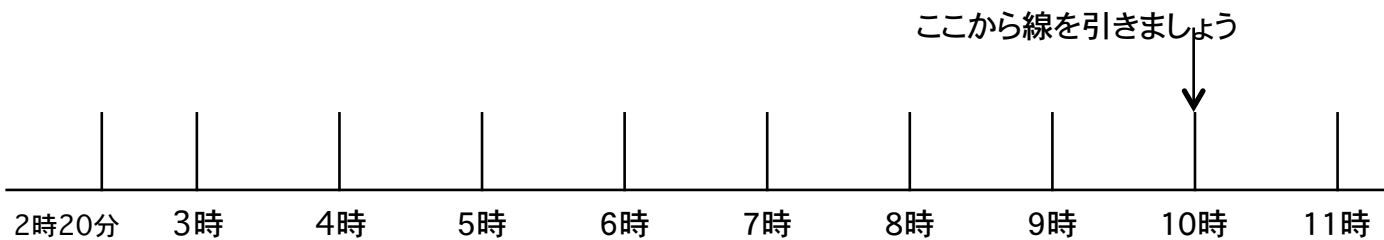
\_\_\_\_\_ 月 \_\_\_\_\_ 日 \_\_\_\_\_ 名前 \_\_\_\_\_ 点 \_\_\_\_\_

◆ つぎの時間をもとめましょう

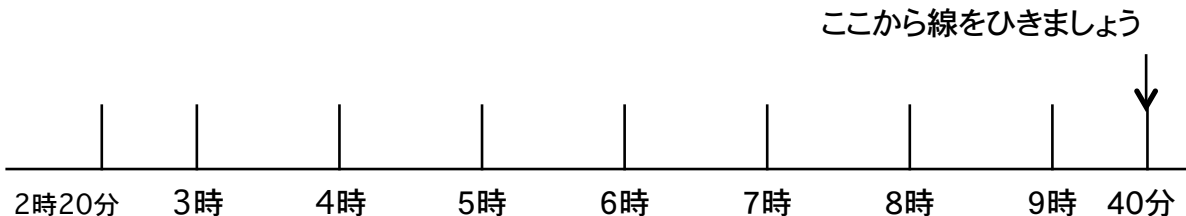
① 3 時 30 分から 8 時 までの時間




① 2 時 20 分から 10 時 までの時間

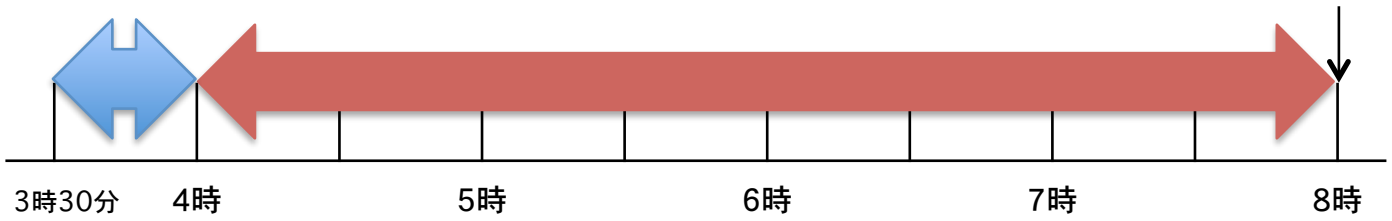



① 2 時 20 分から 9 時 40 分までの時間



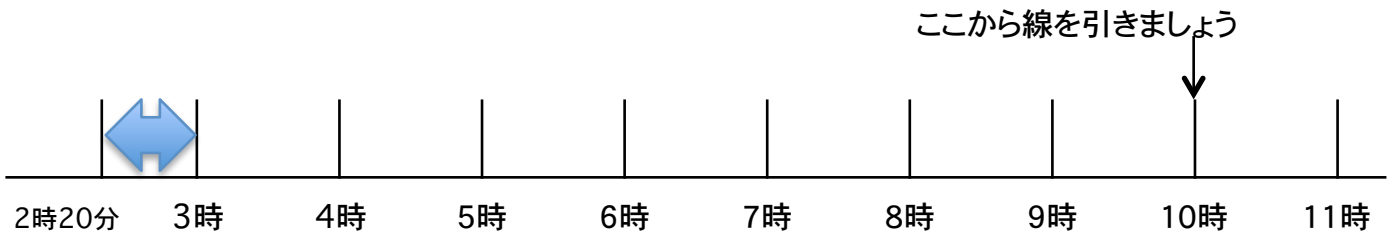
答え

① 3 時 30 分から 8 時 までの時間



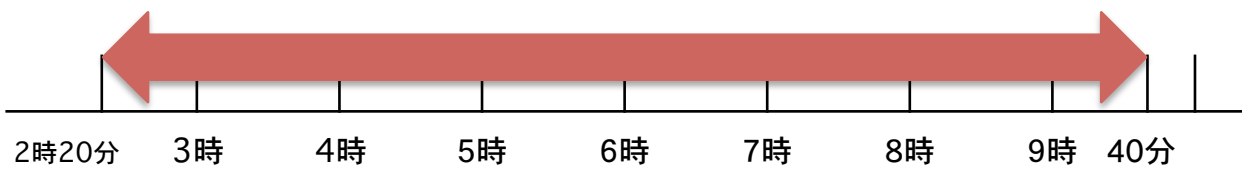
4 時間 30 分

① 2 時 20 分から 10 時 までの時間



7 時間 40 分

③ 2 時 20 分から 9 時 40 分までの時間



7 時間