

時こくと時間 もとめ方2

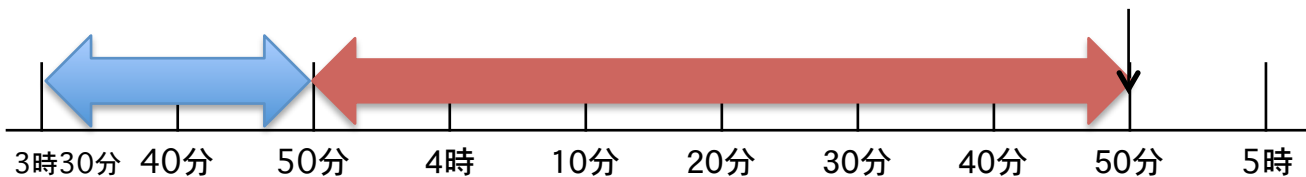
NO.2

月 日 _____ 点

◆ つぎの時間をもとめましょう

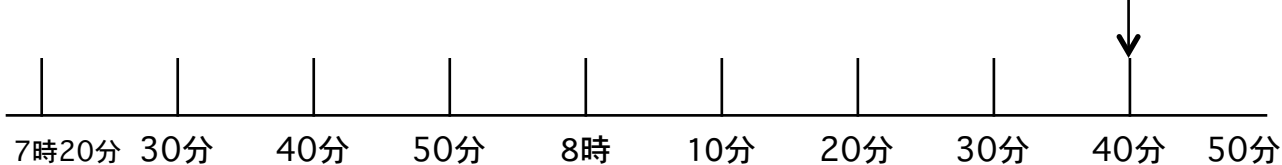
① 3 時 30 分から 4 時 50 分までの時間

1時間分を赤 それ以外を青で線を引きましょう。



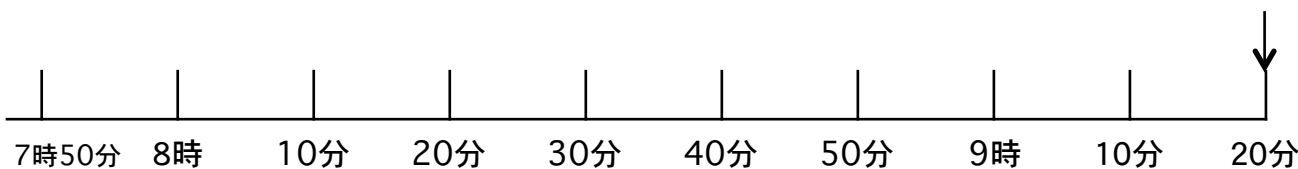
② 7 時 20 分から 8 時 40 分までの時間

1時間分を赤 それ以外を青で線を引きましょう。



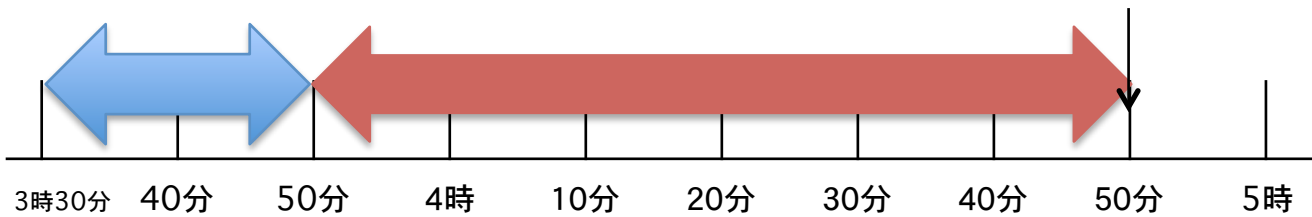
③ 7 時 50 分から 9 時 20 分までの時間

1時間分を赤 それ以外を青で線を引きましょう。



答え

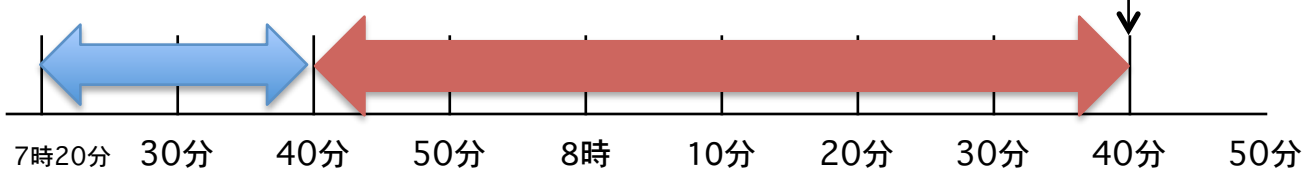
① 3 時 30 分から 4 時 50 分までの時間



1 時間 20 分

② 7 時 20 分から 8 時 40 分までの時間

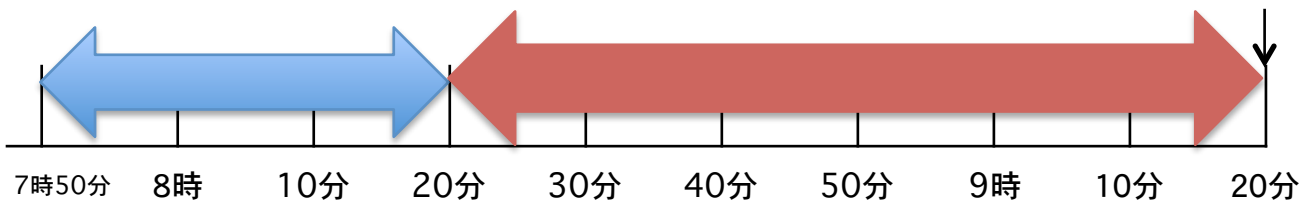
1時間分を赤 それ以外を青で線を引きましょう。



1 時間 20 分

③ 7 時 50 分から 9 時 20 分までの時間

1時間分を赤 それ以外を青で線を引きましょう。



1 時間 30 分