

# 時こくと時間 もとめ方2

NO.1


\_\_\_\_\_ 月 \_\_\_\_\_ 日 
 

名前	
----	--

 \_\_\_\_\_ 点

◆ つぎの時間をもとめましょう

① 2 時 50 分から 3 時 30 分までの時間



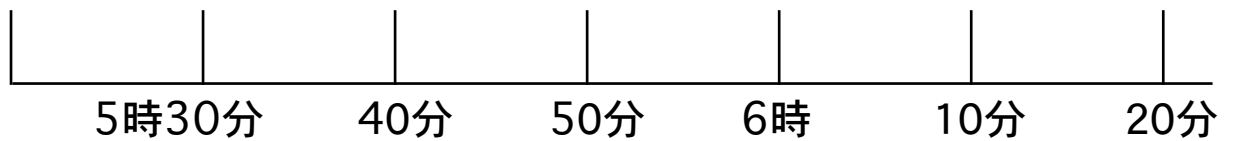
② 3 時 30 分から 4 時 20 分までの時間

\*線をひいてみましょう。



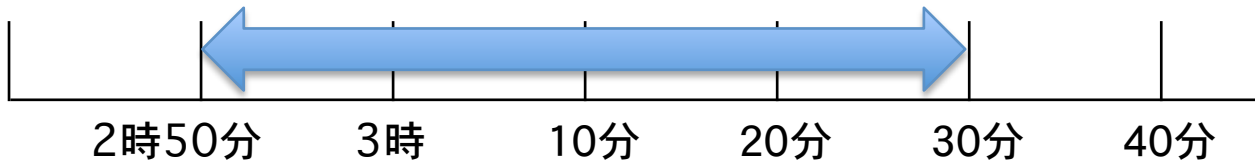
③ 5 時 30 分から 6 時 10 分までの時間

\*線をひいてみましょう。



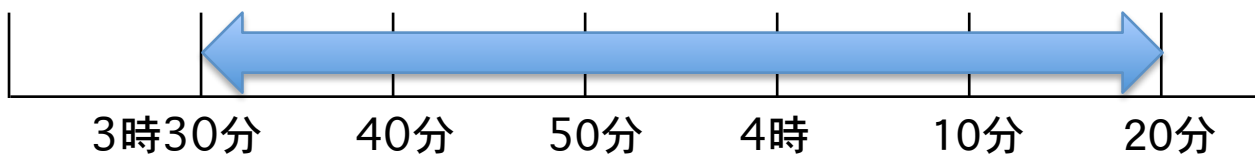
答え

① 2 時 50 分から 3 時 30 分までの時間



40 分

② 3 時 30 分から 4 時 20 分までの時間



50 分

③ 5 時 30 分から 6 時 10 分までの時間



40 分