

時こくと時間 もとめ方2

月 日

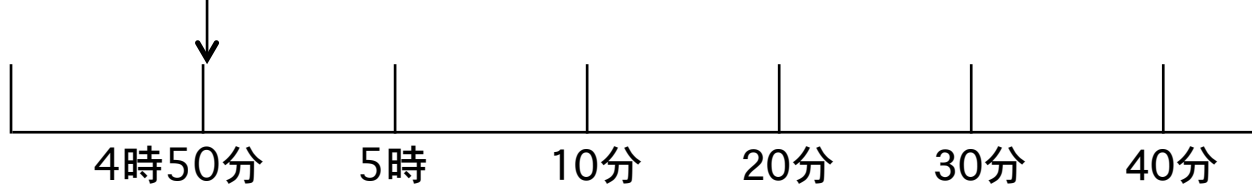
名前	
----	--

 点

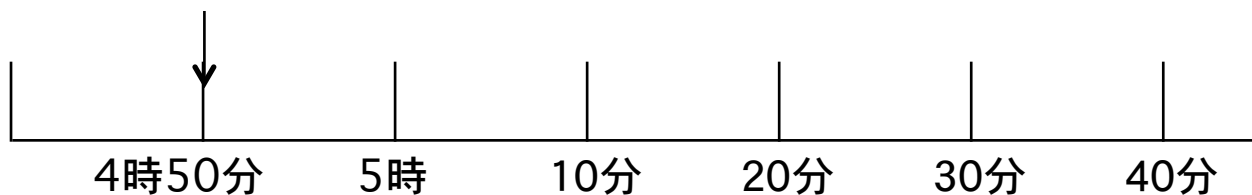
◆ つぎの時こくをもとめましょう。

① 4 時 50 分から 30 分後の時こく

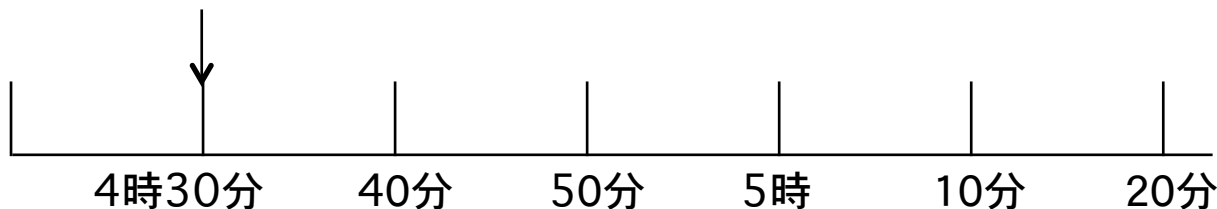
ここから 30 分後まで線を引きましょう。



② 4 時 50 分から 50 分後の時こく



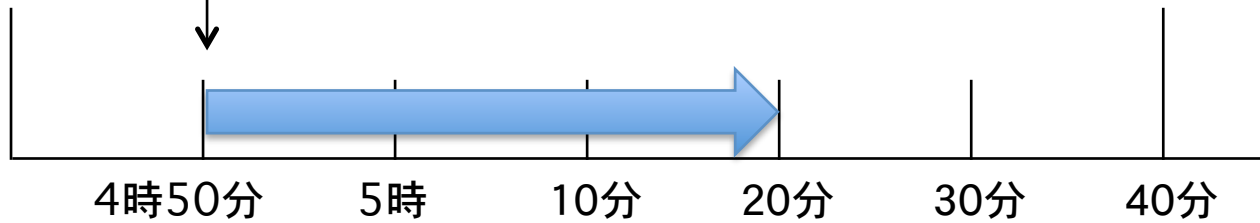
③ 4 時 30 分から 50 分後の時こく



答え

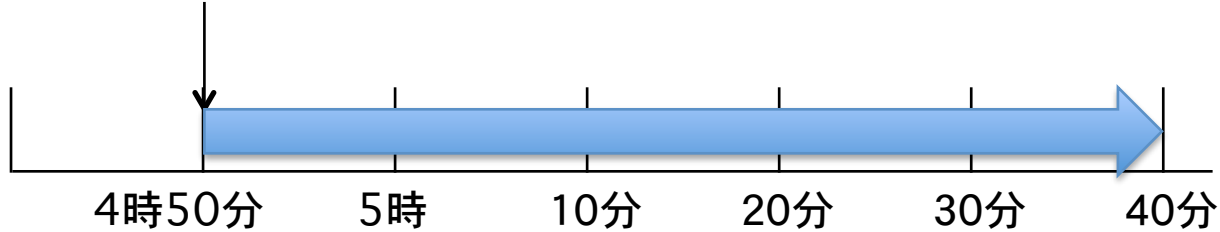
① 4 時 50 分から 30 分後の時こく

ここから 30 分後まで線を引きましょう。



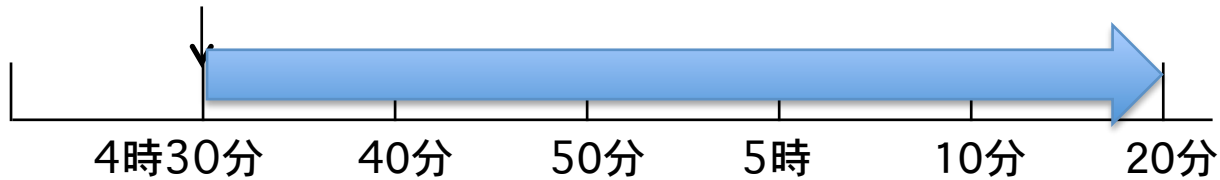
5 時 20 分

② 4 時 50 分から 50 分後の時こく



5 時 40 分

③ 4 時 30 分から 50 分後の時こく



5 時 20 分