

水のかさ 1

NO 1

月 日

名前

点

1 □にあてはまことばやたんいを書きましょう。


小さな水のかさをはかるには、1デシリットルのたんいを使います。
1デシリットルは 1 □ と書きます。




大きな水のかさをはかるには、1リットルのますを使います。

1リットルは、 1 □ と書きます。

1Lのますには、1dLのますで □ ばいぶんの水が入ります。



2 L (リットル) の 書き方を れんしゅうしましょう。

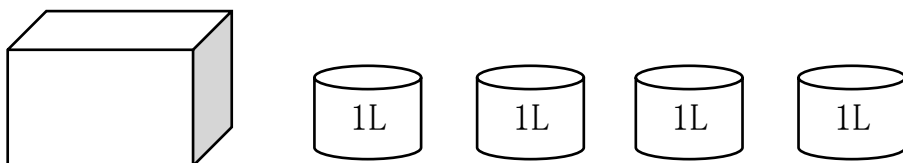


3 dL (デシリットル) の 書き方を れんしゅうをしましょう。

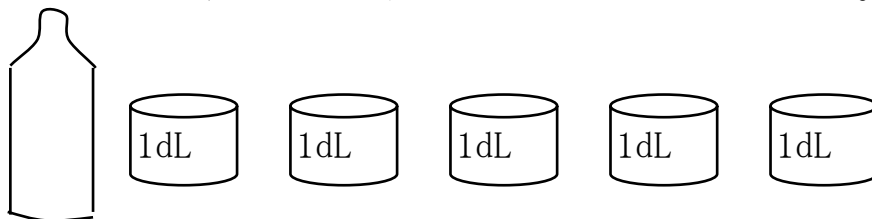


4 入っている水のかさを答えましょう。

① 水そうの中に1ℓます 4 つぶん入っている。



② びんの中に1dℓます 5 つぶん入っている。



答え

2

小さな水のかさをはかるには、1デシリットルのたんいを使います。

1デシリットルは 1 **dL** と書きます。

大きな水のかさをはかるには、1リットルのますを使います。

1リットルは、 1 **L** と書きます。 1Lのますには、1dLのますで

10 ばいぶんの水が入ります。

4

①

4 L

②

5dL