

ひょうと グラフ1


NO 1

月 日

名前	
----	--

点

◆ かたちの かずを しらべましょう。








① かたちの かずを ひょうに かきましょう。

かたち					
かず					

② かたちの かずを ○を使って グラフに あらわしましょう。

こたえ

①	かたち					
	かず	4	6	5	3	2

②		○			
		○	○		
	○	○	○		
	○	○	○	○	
	○	○	○	○	○
	○	○	○	○	○
	