

# 小数 1

目標時間 5分

NO. 2

名前

／ 5 点

1 □にあてまはることばや数を書きましょう。

① 1を10等分した1こ分の大きさを □ と書き、  
「 □ 」 と読みます。

② 0.1を10こ集めた大きさは □ です。

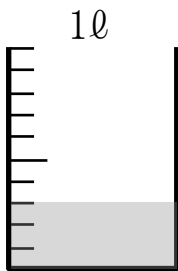
③ 0.4 や 3.6 のような数を □ といいます。また、「.」を  
□ といいます。

④ 小数点のすぐ右の位を □ といいます。

⑤ 0, 1, 2... のような数を □ といいます。

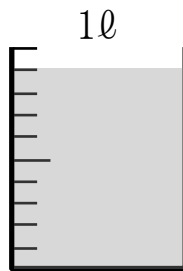
2 次の図のかさを小数で表しましょう。

①



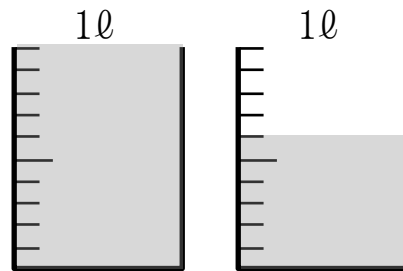
□ ℓ

②



□ ℓ

③



□ ℓ

答え

1

- ① 0.1 、れい点いち      ② 1      ③ 小数、小数点  
④ 小数第一位      ⑤ 整数

2

- ① 0.3      ② 0.9      ③ 1.6