

小数 1

目標時間 5分

NO. 1

名前

/ 5 点

1 □にあてまはることばや数を書きましょう。

① 1を10等分した1こ分の大きさを □ と書き、
「 □ 」 と読みます。

② 0.1を10こ集めた大きさは □ です。


③ 0.3 や 3.7 のような数を □ といいます。また、「.」を □ といいます。

④ 小数点のすぐ右の位を □ といいます。

⑤ 0, 1, 2... のような数を □ といいます。

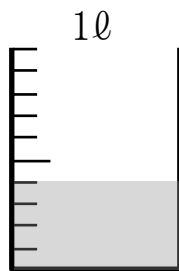
2 次の図のかさを小数で表しましょう。

①



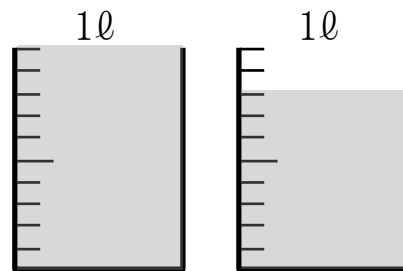
□ ℓ

②



□ ℓ

③



□ ℓ

答え

1

- ① 0.1 、れい点いち ② 1 ③ 小数、小数点
④ 小数第一位 ⑤ 整数

2

- ① 0.6 ② 0.4 ③ 1.8