

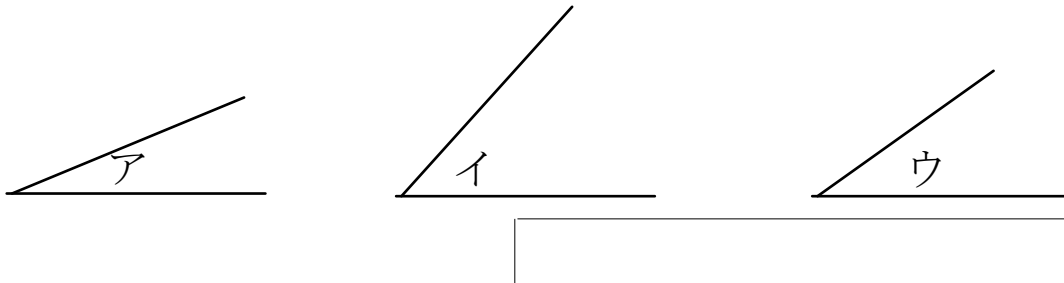
三角形と角2

月 日

名前

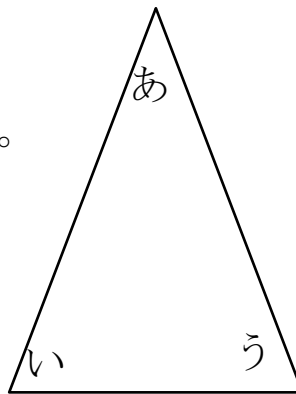
点

1 下の角を大きいじゅんにならべましょう。

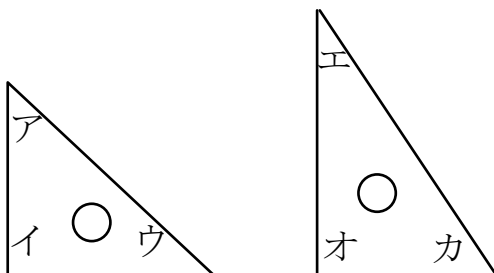


2 □にあてはまることばを書きましょう。

- ① 右の二等辺三角形では □ と □ の角の大きさが同じになります。
- ② 正三角形ではすべての角の大きさが □ になります。



3 下の三角じょうぎを見て答えましょう。



- ① ウとカの角ではどちらが大きいですか。
- ② アとエの角ではどちらが大きいですか。
- ③ 同じ大きさの角はどれとどれですか。2組答えましょう。
 と

答え

1 イ、ウ、ア

2 ① い、う ② 同じ

3 ① カ ② ア

③ アとウ イとオ